

Документ подписан простой электронной подписью  
Информация о владельце:  
ФИО: Горюшкина Наталья Евгеньевна  
Должность: Заведующий кафедрой  
Дата подписания: 10.06.2024 10:45:53  
Уникальный программный ключ:  
0c4e58217fedf178aa710b029419a0ed18d83c52

МИНОБРНАУКИ РОССИИ  
Юго-Западный государственный университет

УТВЕРЖДАЮ:  
Заведующий кафедрой истории и  
социально-культурного сервиса



Н.Е. Горюшкина

«30» \_\_\_\_\_ 08 \_\_\_\_\_ 2023г.

ОЦЕНОЧНЫЕ СРЕДСТВА  
для текущего и промежуточного контроля  
успеваемости обучающихся  
по дисциплине

**Кулинарные традиции региона**  
(наименование дисциплины)

43.03.03 Гостиничное дело, «Ресторанная деятельность»  
(код и наименование ОПОП ВО)

# 1 ОЦЕНОЧНЫЕ СРЕДСТВА ДЛЯ ТЕКУЩЕГО КОНТРОЛЯ УСПЕВАЕМОСТИ

## 1.1. КЕЙС-ЗАДАЧИ

### Тема 3. Кулинарные традиции города Курска

#### *Кейс-задача № 1*

Паспорт какого архитектурного объекта Курской области представлен ниже?

*Комплекс является родовым поместьем известных князей «...». Сооружение здания произошло в начале 19 века, и оно состоит из трёх этажей. Рядом с усадьбой размещён невероятной красоты пруд. Сразу после постройки здания на её территории был размещён целый театр в оркестре, которого насчитывалось около 60 музыкантов.*

*В период с 1869 по 1873 года усадьба была полностью перестроена, согласно модному веянию того времени неоклассицизму.*

*За весь период своего существования усадьба примерила на себе роли сельскохозяйственной техника, дома отдыха, а затем и санатория (период СССР). На данном этапе времени на территории усадьбы размещен санаторий Управления делами Президента России.*

Ответ: \_\_\_\_\_.

#### *Кейс-задача № 2*

Какие памятники курянам – деятелям литературы и искусства установлены в нашем городе? Расскажите об одном курянине – деятеле искусства, которому установлен памятный бюст или памятник в Курске.

Ответ: \_\_\_\_\_.

#### *Кейс-задача № 3*

На трафарете карты Курской области поставьте точки-локации гастрономических брендов региона.

Ответ: \_\_\_\_\_.

#### *Кейс-задача № 4*

Малые исторические города Курской области богаты достопримечательностями. Выберите наиболее привлекательный для вас город и составьте экскурсионный маршрут по нему.

Ответ: \_\_\_\_\_.

#### Тема 4. Кулинарные традиции Рыльского района

##### Кейс-задача № 1

В Курской области насчитывается большое количество усадеб, которые представляют собой значимую историческую ценность. Опишите одну наиболее интересующую вас усадьбу: укажите ее местоположение, кому она принадлежала, в какие годы была построена и в каком состоянии дошла до наших дней.

Ответ: \_\_\_\_\_.

##### Кейс-задача №2

Составьте программу экскурсии по усадьбе А.А. Фета с включением программы китчен-шоу одного из блюд Рыльского района.

Ответ: \_\_\_\_\_.

##### Кейс-задача № 3

Прочтите отрывок из книги немецкого историка Пауль Карелл «Выжженная земля» о великой битве на северном фланге Курской дуги в 1943 г.:

*«... В наивысший момент битвы на каждой стороне сражается от 1000 до 1200 танков и боевых орудий (САУ), многочисленные авиационные эскадры, и 3000 орудий всех калибров дополняют эту ужасную дуэль. Речь идет о высотах Ольховатки с ядром-высотой 274.*

*Эти высоты были оперативной целью Моделя. Здесь заключалась решающая тайна операции, здесь находился ключ, ведущий в Курск.»*

Он считает бои в районе с. Ольховатка «эпицентром Второй мировой войны». Объясните почему?

Ответ: \_\_\_\_\_.

##### Кейс-задача №4

Составьте перечень гостинично-ресторанных предприятий, предлагающих гастрономические бренды в качестве блюд по меню. (Наименование-адрес-наименование блюда- цена).

##### Кейс-задача №5

Прочтите описание культурного объекта Курской области и ответьте на вопросы.

*Памятником архитектуры классицизма является бывший архиерейский дом, находящийся рядом со Знаменским монастырем. Сводчатые комнаты первого этажа этого здания сохранились от древней постройки XVII века. Здесь находились когда-то покои игумена монастыря. В начале XIX века была возведена основная часть дома с традиционным*

фронтоном и шестиколонным портиком, а в 1853 г. к зданию были сделаны две пристройки с северной и южной стороны.

Назовите культурный объект, о котором идёт речь в тексте.

В каком году данный объект стал располагаться в архиерейском доме?

Можно ли назвать представленный культурный объект популярным среди туристов? Если да, то почему?

Ответ: \_\_\_\_\_.

## **Тема 6. Кулинарные традиции Суджанского района**

### *Кейс-задача №1*

Укажите три вида указаний экскурсовода в зависимости от времени их воздействия на аудиторию и поясните каждый из них.

Ответ: \_\_\_\_\_.

### *Кейс-задача №2*

Разработайте презентацию с поэтапным рецептом блюда «Суджанские вареники с дырочкой».

Ответ: \_\_\_\_\_.

### *Кейс-задача №3*

Маршрут экскурсии строится по принципу наиболее правильной последовательности осмотра объектов и намечается с учетом определённых требований. Назовите эти требования.

Ответ: \_\_\_\_\_.

## **Тема 7. Кулинарные традиции Золотухинского района**

### *Кейс-задача №1*

Для оценки объектов, которые включаются в экскурсию, рекомендуется использовать некоторые критерии. Назовите эти критерии и кратко охарактеризуйте три из них.

Ответ: \_\_\_\_\_.

### *Кейс-задача №2*

Опишите историю «Богатой каши», связь этого блюда с праздником «Ореховый спас» в августе.

Ответ: \_\_\_\_\_.

### *Кейс-задача №3*

Какой гастрономический бренд района является любимым блюдом знаменитого физика, отца атомной бомбы СССР. Дайте характеристику этому блюду.

### *Кейс-задача №4*

Прочтите описание одного из музеев в Курской области и ответьте на вопросы.

*Двухметровых глиняных медведей, петушков и оленей можно увидеть в небольшом музее под открытым небом. Скульпторы представили нам увеличенные копии основных персонажей народного промысла. Пока в экспозиции музея представлены только восемь увеличенных копий основных персонажей традиционной народной культуры. Это глиняные медведи, петушки, олени, всадник на тройке, барыня и игрушка перевертыш, которая содержит в себе несколько образов сразу.*

Назовите музей, о котором идёт речь в тексте.

Что вам известно об истории игрушек, представленных в этом музее?

Можно ли назвать представленный объект популярным среди туристов? Если да, то почему?

Ответ: \_\_\_\_\_.

### *Кейс-задача № 5*

Какие блюда входят в православную кухню Курского края, дайте характеристику одному из них.

Ответ: \_\_\_\_\_.

**Шкала оценивания:** 4 балльная.

**Критерии оценивания решения кейс-задачи** (нижеследующие критерии оценки являются примерными и могут корректироваться):

**4 балла** выставляется обучающемуся, если решение задачи демонстрирует глубокое понимание обучающимся предложенной проблемы и разностороннее ее рассмотрение; свободно конструируемая работа представляет собой логичное, ясное и при этом краткое, точное описание хода решения задачи (последовательности (или выполнения) необходимых трудовых действий) и формулировку доказанного, правильного вывода (ответа); при этом обучающимся предложено несколько вариантов решения или оригинальное, нестандартное решение (или наиболее эффективное, или наиболее рациональное, или оптимальное, или единственно правильное решение); задача решена в установленное преподавателем время или с опережением времени.

**3 балла** выставляется обучающемуся, если решение задачи демонстрирует понимание обучающимся предложенной проблемы; задача решена типовым способом в установленное преподавателем время; имеют

место общие фразы и (или) несущественные недочеты в описании хода решения и (или) вывода (ответа).

**2 балла** выставляется обучающемуся, если решение задачи демонстрирует поверхностное понимание обучающимся предложенной проблемы; осуществлена попытка шаблонного решения задачи, но при ее решении допущены ошибки и (или) превышено установленное преподавателем время.

**0 баллов** выставляется обучающемуся, если решение задачи демонстрирует непонимание обучающимся предложенной проблемы, и (или) значительное место занимают общие фразы и голословные рассуждения, и (или) задача не решена.

## ***1.2. ВОПРОСЫ И ЗАДАНИЯ В ТЕСТОВОЙ ФОРМЕ***

### **Тема 1. Туристско-рекреационный потенциал Курского края**

1. Ключевые индустриальные достопримечательности Курской области расположены в следующих муниципальных районах:

- а) Глушковский, Рыльский;
- б) Рыльский, Советский;
- в) Советский, Курчатовский;
- г) Курчатовский, Глушковский.

2. Что было возведено к 20-ой годовщине Октябрьской революции на западной части Красной площади, на месте современного Почтамта?

- а) цирк;
- б) церковь;
- в) кинотеатр.

3. Достопримечательностью какого города является Триумфальная арка?

- а) Курск
- б) Льгов
- в) Железногорск

4. Достопримечательности Курской области «фатежские воронки» относятся к следующей категории:

- а) археологический памятник
- б) геологический памятник
- в) ботанический памятник
- г) аномальная зона

5. Достопримечательностью какого города является «башня Шамиля»?

- а) Льгова
- б) Железногорска
- в) Щигров

6. Центром какого вида туризма является Коренная Рождество-Богородицкая Пустынь?

- а) Религиозного
- б) Спортивного
- в) Познавательного
- г) правильного ответа из предложенных нет.

7. Назовите место обретения иконы Божьей Матери «Знамение»

- а) Коренная пустынь
- б) Молченская пустынь
- в) Оптиная пустынь

8. Назовите наиболее значимую природную достопримечательность Курского региона

- а) Заповедник «Стрелецкая степь»
- б) Заповедник «Дивногорье»
- в) Заповедник «Белогорье»

9. Кто является автором картины «Крестный ход в Курской губернии»?

- а) И.И. Репин
- б) В.Г. Перов
- в) А.А. Дейнека

10. Какая дворянская усадьба Курской губернии принадлежала роду Барятинских?

- а) Марьино
- б) Лебяжье
- в) Моква

11. Достопримечательностью какого города является памятник мореплавателю Г. Шелехову?

- а) Рыльска

- б) Льгова
- в) Дмитриева

12. Установите соответствие между объектами и местами их расположения?

МЕСТО РАСПОЛОЖЕНИЯ	ОБЪЕКТ
А) г. Курск	1) Мемориальный «Большой Дуб»
Б) п. Свобода	2) Мемориальный «героям северного фаса Курской дуги»
В) п. Поныри	3) Мемориальный комплекс Командный пункт Центрального фронта»
Г) п. Михайловка	4) Мемориал «Памяти павших в Великой Отечественной войне 1941 – 1945 гг.»

13. Где находится усадьба Нелидовых?

- а) д. 1-я Моква Курского р-на
- б) с. Теплое
- в) с. Лебяжье Курского р-на

14. Какой памятник, посвященный символу региона, воздвигнут Вячеславом Клыковым?

Ответ:

---

15. На официальном сайте Туристско-информационного центра Курской области (<https://gokursk.ru/>) представлены карты объектов – туристическая, культурная, гастрономическая. Расположите их в порядке возрастания количества объектов, представленных на данных картах.

- а) Туристическая карта
- б) Гастрономическая карта
- в) Культурная карта

## Тема 2. Гастрономическая карта Соловьиного края

1. Укажите сайт, на котором содержится полноценная информация о гастрономических брендах Курского региона?

- а) gastrokursk;
- б) gokursk;
- в) edavkure;
- г) solovei.



2. Какой город Курской области относится к малым историческим городам?

- а) Курчатов
- б) Рыльск
- в) Железногорск

3. Какой город называют «литературной столицей» Курского края?

- а) Льгов
- б) Курчатов
- в) Курчатов

4. Достопримечательности Курской области «фатежские воронки» относятся к следующей категории:

- а) археологический памятник
- б) геологический памятник
- в) ботанический памятник
- г) аномальная зона

5. В каком районе находится музей-заповедник «Большой Дуб», который называют курской Хатынью?

- а) Кореневский
- б) Хомутовский
- в) Дмитриевский
- г) Железногорский

6. Достопримечательностью какого города является памятник мореплавателю Г. Шелехову?

- а) Льгова
- б) Рыльска
- в) Дмитриева

7. Какой город является центром Курской магнитной аномалии?

- а) Железногорск
- б) Курск
- в) Курчатов

8. В каком году было введено понятие «Историческое поселение»?

- а) 2002 г
- б) 1994 г
- в) 2005 г
- г) 1987 г

9. Гастрономический бренд области – это:

- а) понятие магазина продуктов;
- б) гастрономический продукт региона, плотно связанный с его историей и традициями, активно используется при рецепции;
- в) популярное блюдо в конкретном ресторане.

10. Выберите малый исторический город Курской области с наибольшей численностью населения.

- а) г. Льгов
- б) г. Щигры
- в) г. Рыльск
- г) г. Суджа

11. Центром какого вида туризма является Коренная Рождество-Богородицкая Пустынь?

- а) Спортивного
- б) Религиозного
- в) Познавательного

12. Установите соответствие между видами туризма и основными объектами посещения: к каждому элементу первого столбца подберите соответствующий элемент из второго столбца?

ВИД ТУРИЗМА	ОБЪЕКТЫ ТУРИЗМА
А) Культурно-познавательный	1) Спортивные сооружения (комплексы, объекты).
Б) Деловой	2) Санатории, пансионаты, оздоровительные центры при гостиницах, клиники.
В) Событийный	3) Театры, музеи (выставки), празднование юбилейных дат и т.д.
Г) Лечебный	4) Предприятия города, выставочно- ярмарочные центры.
Д) Спортивный	5) Музеи, картинные галереи, монастыри, культовые сооружения, архитектурно-парковые ансамбли и др.

13. На официальном сайте Туристско-информационного центра Курской области (<https://gokursk.ru/>) представлена гастрономическая карта региона. Блюда на карте сгруппированы по категориям. Расположите в порядке возрастания количества блюд, представленные в следующих категориях:

- а) Мясное блюдо
- б) Комплексное блюдо
- в) Напиток
- г) Выпечка

14. Сколько блюд входят в состав гастрономических брендов Курского региона?

Ответ:

---

15. Археологический памятник городище «Разбойничий курган» расположен в муниципальном районе:

- а) Беловском
- б) Суджанском
- в) Октябрьском
- г) Хомутовском

### **Тема 5. Кулинарные традиции Льговского района**

1. Как называется мероприятие на территории гостевого дома «Льгов» в процессе которого гости знакомятся с травяным льговским чаем?

- а) Чайный лист;
- б) Чайная заварушка Льговского уезда;
- в) Лечебные ресурсы.

2. Что не входит в состав «Праздничного обеда для Шамиля»?

- а) Суп с клецками;
- б) Биточки куриные;
- в) Пирожки с луком.
- г) Компот

3. Достопримечательности Курской области «фатежские воронки» относятся к следующей категории:

- а) археологический памятник
- б) геологический памятник
- в) ботанический памятник
- г) аномальная зона

4. Обеды Шамиля состояли большей частью из трех блюд (выберите неверный ответ):

- а) суп с клецками, пирожки с луком и компот
- б) суп с клецками, пирожки с луком и молочная каша
- в) молочный суп, пирожки с капустой и компот

5. Какие объекты, расположенные на территории Курской области, входят в список культурного наследия федерального значения?

- а) Ансамбль Троицкого женского монастыря
- б) Мариинская женская гимназия
- в) Мужская классическая гимназия

6. Что не относится к природным туристским (рекреационным) ресурсам?

- а) Памятники гражданской и культовой архитектуры
- б) Ландшафты
- в) Охотничьи и рыболовные угодья

7. Какой парк располагался в центральной части Курска до революции?

- а) Ливалия
- б) Моква
- в) Лебяжье

8. В каком районе Курской области расположен природный памятник-Корыжский лес?

- а) Горшеченский район
- б) Хомутовский район
- в) Глушковский район

9. В каком районе находится музей-заповедник «Большой Дуб», который называют курской Хатынью

- а) Кореневский
- б) Хомутовский
- в) Дмитриевский

10. Какого парка не существует на территории города Курска?

- а) Парк Героев Гражданской войны
- б) Парк имени К. Маркса
- в) Парк имени Ф.Э. Дзержинского

11. В Курской области преобладает:

- а) Въездной туризм
- б) Выездной туризм
- в) Въездной и выездной потоки равны

12. Установите соответствие между кулинарными блюдами Гастрономической карты и местами их происхождения:

МЕСТО	БЛЮДО
А) п. Пристень	1) Обед «Крестьянская услада»
Б) с. Мантурово	2) Каравай
В) м. Свобода	3) «Обед по-фетовски»
Г) г. Железногорск	4) Богатая каша

13. Установите правильную общую последовательность подачи блюд:

- а) Холодные закуски
- б) Первое блюдо (суп)
- в) Вторые горячие блюда — рыбные
- г) Горячие закуски
- д) Вторые горячие блюда — мясные
- е) Сыр
- ж) Свежие фрукты
- з) Десерт — сладкое блюдо
- и) Кофе

14. Напиток из травяных сборов, собранных в Львовском районе?

Ответ: \_\_\_\_\_

15. Какой вид туризма менее других характерен для Курской области?

- а) Спортивный
- б) Круизный
- в) Рекреационный

### **Тема 8. Кулинарные традиции Железногорского района**

1. Самой знаменитой кашей в какой слободе была «Богатая каша»?

- а) Корнеевке;
- б) Михайловке;
- в) Александровке.

2. Богатой кашей она была потому, что для её приготовления, кроме повседневной перловой крупы требовались и другие продукты. Блюдо считалось праздничным лакомством (уберите лишнее):

- а) грибы;
- б) лесные орехи;
- в) семена тыквы.
- г) обжаренный лук с морковью
- д) творог

3. Дата основания г. Железногорск:

- а) 2 октября 1957 года
- б) 24 июня 1958 года
- в) 7 сентября 1959 года

4. Достопримечательностью какого города является памятник путешественнику и мореплавателю Г. И. Шелихову?

- а) Льгов
- б) Рыльск
- в) Железногорск

5. Какие объекты, расположенные на территории Курской области, входят в список культурного наследия федерального значения?

- а) Ансамбль Троицкого женского монастыря
- б) Мариинская женская гимназия

в) Мужская классическая гимназия

6. Что не относится к природным туристским (рекреационным) ресурсам?

- а) Памятники гражданской и культовой архитектуры
- б) Ландшафты
- в) Охотничьи и рыболовные угодья

7. Установите правильную последовательность приготовления «горохового киселя»:

- а) стакан сухого гороха тщательно перемалываем в муку
- б) гороховую пудру несильно разводим водой и размешиваем
- в) выливаем в кипящую воду
- г) солим
- д) варим, постоянно помешивая 20 минут
- е) режем кольцами лук и обжариваем его до золотистого цвета
- ж) кисель посыпаем луком
- з) кашицеобразный кисель выливаем в посуду, оставляем остывать и застывать на 30 минут
- и) застывший кисель аккуратно извлекаем из форм

8. Самой знаменитой кашей в купеческой слободе Михайловка была «Богатая каша». Богатой она была потому, что:

- а) для её приготовления, кроме перловой крупы требовались грибы, лесные орехи, семена тыквы и обжаренный лук с морковью
- б) ее могли позволить себе только зажиточные крестьяне
- в) для её приготовления, кроме крупы требовалось мясо

9. В каком селе Железногорского района Курской области расположена Каменная усадьба Анненковых, (вторая половина 19 в.)?

- а) с. Остапово
- б) с. Карманово
- в) с. Жердевка

10. Знаменитая «Богатая каша» в купеческой слободе Михайловка обычно подавалась с:

- а) яблочным киселем

- б) гороховым киселем
- в) медом

11. В XVI-XVII в.в. голодные периоды, когда кончались в доме запасы, а овощи и рожь еще не успели, готовили:

- а) зеленую кашу
- б) богатую кашу
- в) рисовую кашу

12. Установите соответствие между кулинарными блюдами Гастрономической карты и местами их происхождения:

МЕСТО	БЛЮДО
А) Беловский район	1) каша
Б) п. Горшечное	2) пирог
В) п. Тим	3) квас на гуще
Г) Советский район	4) гусь

13. Назовите наиболее значимую природную достопримечательность Курского региона

- а) Заповедник «Стрелецкая степь»
- б) Заповедник «Дивногорье»
- в) Заповедник «Белогорье»

14. Какое блюдо подают на праздник Ореховый спас?

Ответ: \_\_\_\_\_

15. Какой памятник, посвященный символу региона, воздвигнут Вячеславом Клыковым?

- а) Курской антоновке
- б) Картофельной друньке
- в) Кожлянской игрушке

### **Тема 9. Кулинарные традиции Курчатовского района**

1. Какой вид блюд наиболее популярен в Курчатовском районе?

- а) суп;
- б) каша;
- в) пирог.



2. Картофельная запеканка с яйцами и зеленью в народе называется:
- а) тартом;
  - б) друнькой;
  - в) пахвой.
3. В каком году основан Курчатов:
- а) 1968 году
  - б) 1971 году
  - в) 1976 году
4. Достопримечательностью какого города является монумент Черный тюльпан?
- а) Льгов
  - б) Рыльск
  - в) Курчатов
  - г) Железногорск
5. Какие объекты, расположенные на территории Курской области, входят в список культурного наследия федерального значения?
- а) Ансамбль Троицкого женского монастыря
  - б) Мариинская женская гимназия
  - в) Мужская классическая гимназия
6. Что не относится к природным туристским (рекреационным) ресурсам?
- а) Памятники гражданской и культовой архитектуры
  - б) Ландшафты
  - в) Охотничьи и рыболовные угодья
7. Самый южный укрепленный посёлок юхновской культуры на Курской земле:
- а) Городище с. Колпаково
  - б) Городище Кузина гора
  - в) Городище «Лысая гора»
8. Картофельная друнька является старинным блюдом жителей деревни:

- а) Дурнево
- б) Фаустово
- в) Дроняево

9. Установите правильную последовательность приготовления теста для Путивльских пряников

- а) отварить картофель
- б) тщательно вымешать, взбить в пюре
- в) украсить зеленью
- г) добавить сливочное масло, молоко
- д) по одному вбить сырые яйца
- е) массу выложить в глиняную форму, смазанную жиром
- ж) поверхность выровнять, смазать сметаной и запечь

10. Достопримечательностью г. Курчатов не является:

- а) Парк птиц
- б) Полянка светлячков
- в) Сад тюльпанов

11. Впервые о русских традиционных пирогах в русской кухне упоминал в своих заметках известный:

- а) русский землепроходец Василий Колесников
- б) испанский мореплаватель Себастьян Вискаино
- в) немецкий путешественник Адам Олеарий

12. «Соедините» названия кулинарных блюд:

Часть 1	Часть 2
А) Курчатовский	1) Пирог
Б) Плеховские	2) Каравай
В) Мантуровский	3) Вареники с дырочкой
Г) Суджанские	4) Маковые пампушки

13. Кожлянская игрушка — это обычно:

- а) свистулька
- б) скульптура
- в) погремушка

14. Как называется старинное блюдо жителей деревни Дроняево?

Ответ: \_\_\_\_\_

15. Излюбленное блюдо И.В. Курчатова – «Курчатовский пирог» – с разными:

- а) рыбными начинками
- б) мясными начинками
- в) овощными начинками

**Шкала оценивания:** 4-балльная.

**Критерии оценивания:**

**4 балла** выставляется в том случае, если доля правильных ответов в тесте более 70%.

**3 балла** выставляется в том случае, если доля правильных ответов в тесте не менее 60%.

**2 балла** выставляется в том случае, если доля правильных ответов в тесте не менее 50%.

**0 баллов** выставляется в том случае, если доля правильных ответов в тесте менее 50%.

### **1.3. ТЕМЫ РЕФЕРАТОВ**

#### **Тема 8. Кулинарные традиции Железногорского района**

1. История Железногорска.
2. Курская магнитная аномалия.
3. История Железногорской «Богатой каши» и горохового киселя.
4. "Новейшая поваренная книга".
5. Туристско-рекреационный потенциал Железногорского района.
6. Город Железногорск сегодня.
7. Курская магнитная аномалия.
8. Кулинарные традиции Железногорского района.
9. Природные памятники курской области.
10. Туристский потенциал Курского края.
11. Достопримечательности Курска.

12. Туристский потенциал как условие развития гастрономического туризма Курской области.
13. Роль исторических городов и сельских поселений в туризме.
14. Монастыри Курского края и их роль в туризме.
15. Кулинарные традиции Курского края.
16. «Богатая каша» города Железногорск.
17. История возникновения каши «Гарбузня».
18. Картофельная друнька и курчатовский пирог (рецепт) в рамках экскурсионной программы Курчатовского района «Связуя нить времён».
19. Ржаной квас князей Мещерских в Фатеже.
20. Экскурсионные программы Курчатовского района.
21. Традиционные блюда Курска.
22. История возникновения Курского пряника.
23. Особые региональные разновидности русских пряников.
24. История происхождения названия мучного кондитерского изделия "пряник".
25. Способы приготовления и свойства пряников.
26. Вкусные традиции Курского края.
27. Гарбузня – вновь модное старое блюдо.
28. Традиционные блюда из курской глубинки.
29. Курская кухня – рецепты старых блюд.
30. Что нужно попробовать в Курске?
31. Традиционные блюда Курского края.
32. Забытые рецепты курской кухни.
33. Гастрономические экспедиции по Курской области.
34. Гастрономический путеводитель.
35. Традиционные блюда Рыльского района.

## **Тема 9. Кулинарные традиции Курчатовского района**

- 36.История Курчатовского района.
- 37.Русские пироги Курчатовского района.
- 38.Основные блюда Курчатова.
- 39.Туристско-рекреационный потенциал Курчатовского района.
- 40.История города Курчатов.
- 41.Русские пироги.
- 42.Кулинарные традиции Курчатовского района.
- 43.Достопримечательности Рыльского района.
- 44.Любимое блюда князя Ивана Ивановича Барятинского.
- 45.Знаменитые люди города Рыльск.
- 46.Музеи г. Рыльск.
- 47.История дома купцов Шелиховых.
- 48.Архитектура дома Шемяки.
- 49.История знаменитого блюда г. Рыльска "Запеченный Бараний Бок".
- 50.История возникновения названия города Львова.
- 51.Достопримечательности Льговского района.
- 52.Праздничный обед для Шамиля.
- 53.Основные блюда Льговского района.
- 54.История Посемья – Курской волости на рубеже эпох (IX – XI века).
- 55.Льгов в настоящее время.
- 56.«ЧАЙнаяЗАВАРушка Льговского уезда».
- 57.История возникновения города Суджа.
- 58.Традиционные блюда Суджанского района.
- 59.Рецепт Плеховских маковых пампушек.
- 60.Знаменитые блюда Суджанского района.
- 61.Культурные учреждения города Суджа.
- 62.Туристско-рекреационный потенциал Суджанского района.
- 63.Урочище «Горналь».
- 64.Достояние Достоевского.

65. Кулинарные традиции Суджанского района.
66. Основные блюда Суджанской кухни.
67. Главная достопримечательность Золотухинского района.
68. Усадьба знаменитого русского поэта в деревне Воробьевка Курской области.
69. Обед Афанасия Афанасьевича Фета.
70. Традиционные блюда Золотухинского района.
71. История монастыря Коренная Пустынь.
72. Способы приготовления киселя на крахмале.
73. Туристско-рекреационный потенциал Золотухинского района.
74. Кулинарные традиции Золотухинского района.
75. Крестный ход в Курской губернии.

**Шкала оценивания: 6 -балльная.**

**Критерии оценивания** (нижеследующие критерии оценки являются примерными и могут корректироваться):

**6-5 баллов** выставляется обучающемуся, если тема реферата раскрыта полно и глубоко, при этом убедительно и аргументированно изложена собственная позиция автора по рассматриваемому вопросу; структура реферата логична; изучено большое количество актуальных источников, грамотно сделаны ссылки на источники; самостоятельно подобран яркий иллюстративный материал; сделан обоснованный убедительный вывод; отсутствуют замечания по оформлению реферата.

**4 балла** выставляется обучающемуся, если тема реферата раскрыта полно и глубоко, сделана попытка самостоятельного осмысления темы; структура реферата логична; изучено достаточное количество источников, имеются ссылки на источники; приведены уместные примеры; сделан обоснованный вывод; имеют место незначительные недочеты в содержании и (или) оформлении реферата.

**3 балла** выставляется обучающемуся, если тема реферата раскрыта неполно и (или) в изложении темы имеются недочеты и ошибки; структура реферата логична; количество изученных источников менее рекомендуемого, сделаны ссылки на источники; приведены общие примеры; вывод сделан, но имеет признаки неполноты и неточности; имеются замечания к содержанию и (или) оформлению реферата.

**0 баллов** выставляется обучающемуся, если содержание реферата имеет явные признаки плагиата и (или) тема реферата не раскрыта и (или) в изложении темы имеются грубые ошибки; материал не структурирован, излагается непоследовательно и сбивчиво; количество изученных источников значительно менее рекомендуемого, неправильно сделаны ссылки на источники или они отсутствуют; не приведены примеры или приведены неверные примеры; отсутствует вывод или вывод

расплывчат и неконкретен; оформление реферата не соответствует требованиям.

## **2 ОЦЕНОЧНЫЕ СРЕДСТВА ДЛЯ ПРОМЕЖУТОЧНОЙ АТТЕСТАЦИИ ОБУЧАЮЩИХСЯ**

### **2.1 БАНК ВОПРОСОВ И ЗАДАНИЙ В ТЕСТОВОЙ ФОРМЕ**

#### **1 Вопросы в закрытой форме**

1. Ключевые индустриальные достопримечательности Курской области расположены в следующих муниципальных районах:
  - а) Глушковский, Рыльский;
  - б) Рыльский, Советский;
  - в) Советский, Курчатовский;
  - г) Курчатовский, Глушковский.
  
2. Какой вид блюд наиболее популярен в районе?
  - а) суп;
  - б) каша;
  - в) пирог.
  
3. Картофельная запеканка с яйцами и зеленью в народе называют:
  - а) тартом;
  - б) друнькой;
  - в) пахлавой.
  
4. Богатой кашей она была потому, что для её приготовления, кроме повседневной перловой крупы требовались и другие продукты (уберите лишнее):
  - а) грибы;
  - б) лесные орехи;
  - в) семена тыквы.
  - г) обжаренный лук с морковью
  - д) творог
  
5. Что представляет собой мясной компонент гастрономического бренда района:
  - а) мясной фарш;

- б) котлета;
- в) ростбиф.

6. Укажите сайт, на котором содержится полноценная информация о гастрономических брендах Курского региона?

- а) gastrokursk;
- б) gokursk;
- в) edavkure;

7. Гастрономический бренд области – это:

- а) понятие магазина продуктов;
- б) гастрономический продукт региона, плотно связанный с его историей и традициями, активно используется при рецепции;
- в) популярное блюдо в конкретном ресторане.

8. На праздник «Кулики» горожане выпекали фигурки похожие на:

- а) рыб;
- б) животных;
- в) птиц;
- г) людей.

9. Блюда какой кухни являются гастрономическим направлением в Курске?

- а) Православной;
- б) Русской;
- в) Деревенской;
- г) Постной.

10. Наиболее известный гастрономический бренд Рыльского района:

- а) Обед по-Фетовски;
- б) Запеченный бараний бок;
- в) Вареники с дырочкой;
- г) Беловский пирог.

11. Где можно попробовать запеченный бараний бок?

- а) Ресторан «Усадьба»;
- б) Коренская ярмарка;
- в) Столовая «Рассвет»;
- г) Кафе «Курск».



12. Как называется мероприятие на территории гостевого дома «Льгов» в процессе которого гости знакомятся с травяным льговским чаем?

- а) Чайный лист;
- б) Чайная заварушка Льговского уезда;
- в) Лечебные ресурсы.

13. Что не входит в состав «Праздничного обеда для Шамиля»?

- а) Суп с клецками;
- б) Биточки куриные;
- в) Пирожки с луком.
- г) Компот

14. Рецепт вареников достался от:

- а) немцев;
- б) турков;
- в) казаков.

15. Суджанские вареники изготавливаются с определенным отличием:

- а) С дырочкой;
- б) С гребешком;
- в) С бульоном;
- г) В виде сферы.

16. В нашей стране на страницах поваренных книгах 19 века пампушки именовались «пезами» - от слова «pesard», что в переводе с французского означает:

- а) вздыбленный;
- б) круглый;
- в) мягкий;
- г) сочный.

17. Какое блюдо является гастрономическим брендом района?

- а) Помпушки;
- б) Курчатовский пирог;
- в) Обед по-Фетовски;
- г) Гусь по-советски.

18. Что было возведено к 20-ой годовщине Октябрьской революции на западной части Красной площади, на месте современного Почтамта?

- а) цирк;
- б) церковь;
- в) кинотеатр.

19. Достопримечательностью какого города является Триумфальная арка?

- а) Курск
- б) Льгов
- в) Железногорск

20. Достопримечательности Курской области «фатежские воронки» относятся к следующей категории:

- а) археологический памятник
- б) геологический памятник
- в) ботанический памятник
- г) аномальная зона

21. Достопримечательностью какого города является «башня Шамиля»?

- а) Льгова
- б) Железногорска
- в) Щигров

22. Центром какого вида туризма является Коренная Рождество-Богородицкая Пустынь?

- а) Религиозного
- б) Спортивного
- в) Познавательного
- г) правильного ответа из предложенных нет.

23. Назовите место обретения иконы Божьей Матери «Знамение»

- а) Коренная пустынь
- б) Молченская пустынь
- в) Оптиная пустынь

24. Назовите наиболее значимую природную достопримечательность Курского региона

- а) Заповедник «Стрелецкая степь»
- б) Заповедник «Дивногорье»
- в) Заповедник «Белогорье»

25. Кто является автором картины «Крестный ход в Курской губернии»?

- а) И.И. Репин
- б) В.Г. Перов
- в) А.А. Дейнека

26. Какая дворянская усадьба Курской губернии принадлежала роду Барятинских?

- а) Марьино
- б) Лебяжье
- в) Моква

27. Достопримечательностью какого города является памятник мореплавателю Г. Шелехову?

- а) Рыльска
- б) Льгова
- в) Дмитриева

28. Какой из районов Курской области имеет наибольший потенциал для развития военного туризма?

- а) Поньровский
- б) Прохоровский
- в) Глушковский

29. Где находится усадьба Нелидовых?

- а) д. 1-я Моква Курского р-на
- б) с. Теплое
- в) с. Лебяжье Курского р-на

30. Где находится церковь Покрова Пресвятой Богородицы (1828 г.)?

- а) г. Суджа
- б) г. Рыльск
- в) г. Обоянь

31. Какой памятник, посвященный символу региона, воздвигнут Вячеславом Клыковым?

- а) Памятник Курской антоновке
- б) Соловей

в) Памятник груше

16. Сколько малых исторических городов насчитывается в Курской области?

- а) 5
- б) 6
- в) 7
- г) 8

17. Какой город Курской области относится к малым историческим городам?

- а) Курчатов
- б) Рыльск
- в) Железногорск

18. Какой город называют «литературной столицей» Курского края?

- а) Льгов
- б) Курчатов
- в) Курск

19. Достопримечательности Курской области «фатежские воронки» относятся к следующей категории:

- а) археологический памятник
- б) геологический памятник
- в) ботанический памятник
- г) аномальная зона

20. В каком районе находится музей-заповедник «Большой Дуб», который называют курской Хатынью?

- а) Кореневский
- б) Хомутовский
- в) Дмитриевский
- г) Железногорский

21. Достопримечательностью какого города является памятник мореплавателю Г. Шелехову?

- а) Льгова
- б) Рыльска
- в) Дмитриева

22. Какой город является центром Курской магнитной аномалии?

- а) Железногорск
- б) Курск
- в) Курчатов

23. В каком году было введено понятие «Историческое поселение»?

- а) 2002г
- б) 1994г
- в) 2005г
- г) 1987г

24. Малый город – это:

Выберите НЕВЕРНОЕ утверждение.

- а) городское поселение с численностью населения до 100тыс., с законодательно закрепленным и присвоенным статусом город
- б) один из городов самой многочисленной группы городских поселений в России. Это устойчивая категория, являющаяся необходимым элементом отечественного «городского каркаса
- в) городское поселение с численностью населения до 50 тыс., с законодательно закрепленным и присвоенным статусом город

25. Выберите малый исторический город Курской области с наибольшей численностью населения.

- а) г. Льгов
- б) г. Щигры
- в) г. Рыльск
- г) г. Суджа

26. Центром какого вида туризма является Коренная Рождество-Богородицкая Пустынь?

- а) Спортивного
- б) Религиозного
- в) Познавательного

27. Достопримечательностью какого города является «башня Шамяля»?

- а) Щигров
- б) Железногорска
- в) Льгова

28. Какого исторического района никогда не было в пределах города Курска, начиная с XVIII века?

- а) Солдатская слобода
- б) Рассыльная слобода
- в) Подьяческая слобода
- г) Тускарная слобода
- д) Черкасская слобода
- е) Очаковская слобода

29. Ключевые индустриальные достопримечательности Курской области расположены в следующих муниципальных районах:

- а) Глушковский, Рыльский
- б) Рыльский, Советский
- в) Советский, Курчатовский
- г) Курчатовский, Глушковский

30. Археологический памятник городище «Разбойничий курган» расположен в муниципальном районе:

- а) Беловском
- б) Суджанском
- в) Октябрьском
- г) Хомутовском

31. Когда город Курск был награжден орденом Отечественной войны 1 степени?

- а) 9 апреля 1980г
- б) 14 апреля 1955г
- в) 5 мая 1964г
- г) 11 января 1947г

32. Когда Курск был назван Городом Воинской Славы:

- а) 7 мая 2007 г.
- б) 5 июня 2000 г.
- в) 24 мая 2004 г.
- г) 8 мая 2007 г.

33. Назовите автора памятника Воину-Победителю в п.Слобода:

- а) Д.И. Гаркуша
- б) М.М. Заутренников
- в) В.В. Капустин

34. Когда Курск подвергся первой бомбежке?

- а) 29 августа 1941 г.
- б) 17 июля 1941 г.
- в) 2 августа 1942 г.

35. Курск был оккупирован:

- а) 3 ноября 1941 г
- б) 30 августа 1942 г
- в) 11 января 1942 г

36. Сколько дней Курская область находилась в тылу немецких войск?

- а) 450
- б) 290
- в) 520

37. Где находится памятник маршалу Константину Рокоссовскому в г. Курске?

- а) площади областного центра
- б) парк Дзержинского
- в) парк 1 мая

38. Церемония открытия мемориального комплекса «Командный пункт Центрального фронта» состоялась:

- а) 5 августа 1973 г.
- б) 25 сентября 1980 г.
- в) 19 сентября 1978 г.

39. Где находится Мемориальный комплекс «Большой Дуб»?

- а) п. Михайловка
- б) с. Теплое
- в) г. Дмитриев

40. Где находится Стела памяти партизанки В.М. Терещенко?

- а) г. Дмитриев
- б) с. Теплое
- в) п. Михайловка

41. Кто не является автором Стеллы Героям-курянам на Красной площади в г. Курске?

- а) Н. Криволапов
- б) В. В. Капустин
- в) М. Л. Теплицкий

42. Массовые захоронения курян, погибших от рук фашистов в 1941 - 1943 годах находятся в (выберите неверный ответ):

- а) парке Дзержинского
- б) парке Солянка
- в) Знаменской роще

43. Где находится «Тепловские высоты», посвященный битве на Курской дуге?

- а) п. Поныри
- б) п. Горшечное
- в) п. Кшенский

44. Куда был перебазирован командный пункт Центрального фронта в 1943 г.?

- а) Железногорский район
- б) Льговский район
- в) Советский район

45. Где установлен памятник танкистам-героям Курской битвы?

- а) пл. Дзержинского
- б) ул. Ленина
- в) Красная площадь (Курск)

46. Термин усадьба (в понимании, близком к современному) прослеживается с



- а) XVI века
- б) XVII века
- в) XVIII века
- г) XIX века

47. В обиходной практике термином усадьба зачастую называли

- а) крестьянские дворы
- б) дворянские дома
- в) двор царя
- г) гостиные дома

48. Кто определил усадьбу как «господский дом на селе, со всеми ухажаями (угодьями. – Авт.), садом и огородом»?

- а) С.И. Ожегов
- б) Н.М. Карамзин
- в) С.М. Соловьев
- г) В.И. Даля

49. Что первоначально называли участком земли, либо принадлежавшим государству, либо полученным дворянином за службу или приобретенным им?

- а) двор
- б) дача
- в) хозяйство
- г) жилье

50. Казенные дачи просуществовали вплоть до

- а) 1861 года
- б) 1905 года
- в) 1917 года
- г) 1921 года

## 2 Вопросы в открытой форме

1. Вставьте пропущенное слово

Памятник Ленину (работа Матвея Манизера), поставлен перед \_\_\_\_\_ и является идейно-композиционным центром обширной площади.

Село в Курском р-не \_\_\_\_\_ – это родина великой русской певицы Н.В. Плевицкой

2. Сколько блюд входят в состав гастрономических брендов Курского региона?

Ответ \_\_\_\_\_.

3. Кроме главных церковных праздников, в селе \_\_\_\_\_ есть и свои праздники...

Ответ \_\_\_\_\_.

4. \_\_\_\_\_ - напиток из травяных сборов, собранных в Льговском районе.

Ответ \_\_\_\_\_.

5. Местные жители делают \_\_\_\_\_ - с мясом, картофелем, грибами, луком и шкварками, творогом, малиной, вишней, толчеными сухофруктами и даже маком.

Ответ \_\_\_\_\_.

6. Из деревенских очерков \_\_\_\_\_: «...Суп без всяких убийственных запахов, и – о роскошь! – кусок сочного ростбифа со стаканом хорошего вина. Может быть, этого вина и небольшой запас, но оно есть, и радушно предлагается гостю».

Ответ \_\_\_\_\_.

7. Блюдо \_\_\_\_\_, которое подают на праздник Ореховый спас

Ответ \_\_\_\_\_.

8. \_\_\_\_\_ - Старинное блюдо жителей деревни Дроняево.

Ответ \_\_\_\_\_.

9. Напишите авторов

Памятник Александру Невскому \_\_\_\_\_

Памятник Ленину \_\_\_\_\_

Памятник Георгию Васильевичу Свиридову \_\_\_\_\_

Памятник Кате Зеленко \_\_\_\_\_

Памятник Евгению Носову \_\_\_\_\_

10. Кем был воздвигнут памятный знак "Борцам за Советскую власть"?

Ответ \_\_\_\_\_.

11. Где находится историко-мемориальный комплекс «Героям северного фаса Курской дуги»?

Ответ \_\_\_\_\_.

12. Назовите старейшее здание гражданской архитектуры в г. Курске

Ответ \_\_\_\_\_.

13. Какова роль М.С. Щепкина в развитии отечественного и мирового театрального искусства?

Ответ \_\_\_\_\_.

14. Какие 2 памятника Курска имеют федеральный статус?

Ответ \_\_\_\_\_.

15. Какому известному путешественнику был сооружен памятник в 1957 г. скульптором В.И. Игналом в г. Рыльске?

Ответ \_\_\_\_\_.

16. Вставьте пропущенное слово

Известный исследователь российского градостроительного наследия объединил отечественные исторические города по «возрасту», установленному в зависимости от времени их возникновения, в четыре группы: от начала российской истории до начала XVI в., от начала XVI до начала XVIII вв., от XVIII до конца второй трети XIX вв., с 1870 г. до наших дней.

Термин «исторический город» впервые появился в г. \_\_\_\_\_, когда Международной комиссией по истории городов во главе с \_\_\_\_\_ и была начата работа по созданию ряда атласов европейских городов с целью их сравнительного изучения и восстановления историко-культурной картины прошлого.

17. Укажите, в каком году были основаны следующие малые исторические города Курской области

- 1) Дмитриев \_\_\_\_\_
- 2) Льгов \_\_\_\_\_
- 3) Обоянь \_\_\_\_\_
- 4) Рыльск \_\_\_\_\_

18. К какому году относится первое упоминание о городе Дмитриеве?

Ответ \_\_\_\_\_.

19. Сколько малых исторических городов расположен в курской области? Назовите их.

Ответ \_\_\_\_\_.

20. Назовите старейшее здание гражданской архитектуры в г.Курске.

Ответ \_\_\_\_\_.

21. Сколько уездов согласно Указа от 23.05.1779 года «Об учреждении Курской губернии» вошло в её состав?

Ответ \_\_\_\_\_.

22. Определите, о каком районе Курской области идет речь.

Район граничит на востоке с Суджанским, на северо-востоке – с Льговским, на северо-западе – с Рыльским, на западе – с Глушковским районами Курской области, на юге – с Сумским районом Сумской области Украины. Площадь - 873 км<sup>2</sup>. Основные реки – Снагость, Сейм, Крепна. В районе разрабатываются два месторождения торфа; песка и трепела; песка, глины и мела. В районе родился Третьяк Василий Яковлевич (1926-1989) - оперный певец, народный артист СССР.

Ответ \_\_\_\_\_.

23. Гербы каких городов Курской области представлены ниже?  
Укажите дату основания этих городов?



1)



2)



3)



4)

Ответ \_\_\_\_\_.

24. Вставьте пропущенное слово

Всего на Курской земле около \_\_\_\_\_ памятников боевой славы, посвященных Великой Отечественной войне.

25. Напишите имена командующих армий центрального фронта:

13-я армия - \_\_\_\_\_;

18-я армия - \_\_\_\_\_;

70-я армия - \_\_\_\_\_;

60-я армия - \_\_\_\_\_;

65-я армия - \_\_\_\_\_;

2-я танковая армия - \_\_\_\_\_;

16-я воздушная армия - \_\_\_\_\_.

26. Описание какого памятника г. Курска представлено ниже?

Мемориал расположился на въезде в город, отделанный мрамором, высотой 24 метра, с 8-ю бронзовыми колоннами. Венчает ее бронзовая скульптура Георгия Победоносца высотой 6,5 метра и весом 17 тонн. Рядом с могилой Неизвестного солдата - Вечный огонь и скульптурное изображение летящих журавлей.

Ответ \_\_\_\_\_.

27. Дата проведения Курской битвы:

Ответ \_\_\_\_\_.

28. Напишите название памятника, представленного на фото:



Ответ \_\_\_\_\_.

29. Назовите имя летчика (летчицы), совершившего первый и единственный в мире случай воздушного тарана:

Ответ \_\_\_\_\_.

30. Назовите авторов памятного знака «Борцам за Советскую власть»:

Ответ \_\_\_\_\_.

31. Описание какого мемориала г. Курска представлено ниже?

«На центральной аллее расположены шесть стел с символами родов, войск, бывших ударной силой в Курской битве. В центре мемориального комплекса - 22-метровый обелиск Славы из черного полированного гранита. Рядом с ним горит Вечный огонь».

Ответ \_\_\_\_\_.

32. Вставьте пропущенное слово

Усадьба «Гламаздино» – одна из многочисленных земель, дарованных в 1797 г. Императором \_\_\_\_\_ Аркадию Ивановичу Нелидову.

Деревня Жеребцово, расположенная в 17 километрах к западу от Курска, на реке \_\_\_\_\_, впервые упоминается в писцовых книгах XVII века.

33. Укажите примерное местоположение данных усадеб относительно города Курска

Марьино \_\_\_\_\_

Лебязье \_\_\_\_\_

Жеребцово \_\_\_\_\_

Нижние Деревеньки \_\_\_\_\_

Хомутовка \_\_\_\_\_

Моква \_\_\_\_\_

Укажите степень сохранности (полностью сохранившиеся, дошедшие до наших дней со значительными изменениями, частично сохранившиеся, утраченные) данных усадеб (34-38)

34. Белый Колодезь

Ответ \_\_\_\_\_.

35. Нижние Деревеньки

Ответ \_\_\_\_\_.

36. Моква

Ответ \_\_\_\_\_.

37. Жеребцово

Ответ \_\_\_\_\_.

38. Марьино

Ответ \_\_\_\_\_.

### 3 Вопросы на установление соответствия

1. Заполните пустые ячейки таблицы «Дворянское Гнездо», используя представленные в приведённом списке данные. Для каждой ячейки, обозначенной буквами, выберите номер нужного элемента.

Наименование населенного пункта	Усадьба	Краткая характеристика объекта
с. Лебязье Курского р-на	усадьба купца Г.А. Новосильцева	А).
Б).	усадьба князей Барятинских «Марьино»	В).
Г).	Д).	Каменная усадьба

		легендарного украинского гетмана Мазепы, построена в 1704 г. в стиле русско-украинской архитектуры
с. Семеновка Львовского р-на	Усадьба полковника Э.П. Бартрам	Е).

Пропущенные элементы:

- 1) Усадебный дом утопает в зелени векового парка с липовыми аллеями, сохранилась ветряная мельница конца XIX в.
  - 2) п. Марьино Рыльского р-на
  - 3) Палаты гетмана И.С. Мазепы
  - 4) с. Ивановское Рыльского р-на
  - 5) Дворцово-парковый ансамбль XIX в.: величественный трехэтажный дворец, оранжерея, каскад прудов с островами, чугунный монумент «Орел», воздвигнутый в честь ратных заслуг рода Барятинских.
  - 6) Усадебный комплекс к. XIX – н. XX вв. включает в себя главный усадебный дом, старинный парк, церковь Святой Троицы (1856 г.)
- Запишите в таблицу выбранные цифры под соответствующими буквами:

Ответ:

А	Б	В	Г	Д	Е
---	---	---	---	---	---

2. Установите соответствие между объектами и местами их расположения:

А) г. Курск	1) Обед по-Фетовски
Б) п. Свобода	2) Православная кухня
В) Льгов	3) Картофельная друнька
Г) Курчатов	4) Травяной чай

Ответ:

А	Б	В	Г
---	---	---	---

3. Установите соответствие между объектами и местами их расположения:

А) г. Курск	1) Мемориальный комплекс «Большой Дуб»
Б) п. Свобода	2) Мемориальный комплекс «героям северного фаса Курской дуги»
В) п. Поныри	3) Мемориальный комплекс «Командный пункт



	Центрального фронта»
Г) п. Михайловка	4) Мемориал «Памяти павших в Великой Отечественной войне 1941 – 1945 гг.»

Ответ

А	Б	В	Г
---	---	---	---

4. Установите соответствие между видами экскурсионных объектов и конкретными памятниками: к каждому элементу первого столбца подберите соответствующий элемент из второго столбца

А) природные объекты	1) Картинная галерея имени Дейнеки
Б) памятные места, связанные с историческими событиями в жизни нашего народа	2) Гочевское Городище
В) здания и сооружения, мемориальные памятники, связанные с жизнью и деятельностью выдающихся личностей	3) Памятник Александру Невскому
Г) памятники археологии	4) Памятник героям-артиллеристам с. Теплое
Д) экспозиции государственных и народных музеев	5) «Стрелецкая степь»

Ответ

А	Б	В	Г	Д
---	---	---	---	---

5. Заполните пустые ячейки таблицы «Малые города Курской области», используя представленные в приведённом списке данные. Для каждой ячейки, обозначенной буквами, выберите номер нужного элемента.

Город	Дата основания	Описание
Суджа	(А)	малый город Курской области, расположенный на берегах рек Суджа и Олешня (бассейн Днепра)
(Б)	XVII век	малый город Курской области, расположенный на берегу реки Усожа
Рыльск	(В)	(Г)
(Д)	XVII век	(Е)

Пропущенные элементы:

- 1) XVII век

- 2) Город расположен в 120 км к западу от Курска на высоком правом берегу р. Сейм, между впадающими в него речками Рыло и Дублянь
- 3) малый город Курской области. Город расположен на реке Щигор, в 61 км к северо-востоку от Курска.
- 4) Щигры
- 5) 1152
- 6) Фатеж

Запишите в таблицу выбранные цифры под соответствующими буквами:

Ответ:

А	Б	В	Г	Д	Е

6. Установите соответствие между именами исторических деятелей и родом их деятельности: к каждому элементу первого столбца подберите соответствующий элемент из второго столбца

А) Усадьба Анненковых;	1) Дмитриевский
Б) Усадьба Великого князя Михаила Александровича	2) Курский
В) Усадьба Н.Ф. Якимова	3) Коньшевский
Г) Усадьба А.В. Муравьева	4) Кореневский

Ответ

А	Б	В	Г

7. Установите соответствие между видами туризма и основными объектами посещения: к каждому элементу первого столбца подберите соответствующий элемент из второго столбца

Вид туризма:	Объекты туризма:
А) Культурно-познавательный	1) Спортивные сооружения (комплексы, объекты)
Б) Деловой	2) Санатории, пансионаты, оздоровительные центры при гостиницах, клиники
В) Событийный	3) Театры, музеи (выставки), празднование юбилейных дат и т.д.
Г) Лечебный	4) Предприятия города, выставочно-ярмарочные

	центры
Д) Спортивный	5) Музеи, картинные галереи, монастыри, культовые сооружения, архитектурно-парковые ансамбли и др.

Ответ

А	Б	В	Г	Д

8. Установите соответствие между памятниками и годами их открытия: к каждому элементу первого столбца подберите соответствующий элемент из второго столбца

А) Памятник маршалу Константину Рокоссовскому	1) 1948 г.
Б) Стела Героям-курянам на Красной площади	2) 2000 г.
В) Триумфальная арка (Курск)	3) 1966 г.
Г) Бюст летчика Боровых А.Е.	4) 2005 г.

Ответ

А	Б	В	Г

9. Установите соответствие между фронтами, участвующими в Курской битве и именами их командующих: к каждому элементу первого столбца подберите соответствующий элемент из второго столбца

А) Центральный	1) генерал армии Н.Ф. Ватутин
Б) Воронежский	2) генерал-полковник М.М. Попов
В) Степной	3) генерал-полковник В.Д. Соколовский
Г) Брянский	4) генерал армии К.К. Рокоссовский
Д) Западный	5) генерал армии Р.Я. Малиновский
Е) Юго-Западный	6) генерал-полковник И.С. Конев

Ответ

А	Б	В	Г	Д	Е

10. Заполните пустые ячейки таблицы «Курская битва», используя представленные в приведённом списке данные. Для каждой ячейки, обозначенной буквами, выберите номер нужного элемента.

Событие	Дата	Значение
Битва на Курской дуге	_____ (А)	Стратегическая инициатива перешла на сторону Красной армии
_____ (Б)	5 августа	Первый артиллерийский салют в Москве за годы войны
Началось контрнаступление войск левого крыла Западного и Брянского фронтов	_____ (В)	Положение гитлеровцев в районе Орла резко обострилось
_____ (Г)	23 августа	_____ (Д)
_____ (Е)	3 августа – 15 сентября 1943г.	Затруднена перегруппировка и снабжение отступающих войск противника

Пропущенные элементы:

- 1) Освобождение Харькова
- 2) Операция «Кутузов»
- 3) Освобождение городов Орёл и Белгород
- 4) 12 июля 1943 года
- 5) Операция «Рельсовая война»
- 6) Завершение Курской битвы
- 7) 5 июля – 23 августа 1943 года




Запишите в таблицу выбранные цифры под соответствующими буквами:

Ответ:

А	Б	В	Г	Д	Е

11. Заполните пустые ячейки таблицы, используя представленные в приведённом списке данные. Для каждой ячейки, обозначенной буквами, выберите номер нужного элемента.

Усадьба	Фамилия	Фото

Моква	(А)	
(Б)	Анненковы	
Марьино	(В)	
(Г)	Фет	(Д)
Белый Колодезь	Шварц	(Е)

Пропущенные элементы:

- 1) Воробьевка
- 2) Барятинские
- 3) Нелидовы
- 4) Жеребцово



б)



Запишите в таблицу выбранные цифры под соответствующими буквами: Ответ:

А	Б	В	Г	Д	Е

12. Установите соответствие между усадьбами и районами, в которых они находятся: к каждому элементу первого столбца подберите соответствующий элемент из второго столбца

А) Усадьба Анненковых	1) Дмитриевский
Б) Усадьба Великого князя Михаила Александровича	2) Курский
В) Усадьба А.Ф. Якимова	3) Коньшевский
Г) Усадьба А.В. Муравьёва	4) Корневский

Ответ

А	Б	В	Г

13. Установите соответствие между понятием и определением: к каждому элементу первого столбца подберите соответствующий элемент из второго столбца

А) Усадьба	1) русское название сельского населённого пункта с несколькими десятками домов.
Б) Деревня	2) разновидность земельного владения, предоставлявшегося за воинскую или государственную службу в России в конце XV — начале XVIII веков.
В) Поместье	3) это древнейшее название славянского поселения.
Г) Село	4) в русской архитектуре отдельное поселение, комплекс жилых, хозяйственных, парковых и иных построек, а также, как правило, усадебный парк, составляющих единое целое.

Ответ

А	Б	В	Г

#### 4 Вопросы на установление последовательности

1. На официальном сайте Туристско-информационного центра Курской области (<https://gokursk.ru/>) представлены карты объектов – туристическая, культурная, гастрономическая. Расположите их в порядке возрастания количества объектов, представленных на данных картах.
  - а) Туристическая карта
  - б) Гастрономическая карта
  - в) Культурная карта
2. На официальном сайте Туристско-информационного центра Курской области (<https://gokursk.ru/>) представлена гастрономическая карта региона. Блюда на карте сгруппированы по категориям. Расположите в порядке возрастания количества блюд, представленные в следующих категориях:
  - а) Мясное блюдо
  - б) Комплексное блюдо
  - в) Напиток
  - г) Выпечка
3. Установите правильную последовательность приготовления теста для Путивльских пряников:
  - а) мёд подогреть
  - б) добавить яйца
  - в) добавить муки
  - г) положить измельчённые пряности
  - д) добавить разрыхлитель
4. Установите правильную последовательность приготовления блюда «Гусь по-советски»:
  - а) Изюм, курагу и чернослив распарить. Яблоки разрезать на четвертинки и вырезать сердцевину. Яблоки соединить с сухофруктами, посыпать сахаром и нафаршировать этой смесью гуся.
  - б) Подготовленного гуся натереть солью, специями и чесноком внутри и

снаружи. В тушке сделать проколы кулинарным шприцом и нашпиговать молоком.

- в) Из готового гуся вынуть начинку, разложить на широком блюде, посыпать зеленью и сверху поместить гуся.
- г) Гуся выложить спинкой на противень, влить немного воды и отправить в духовку.

5. Установите правильную общую последовательность подачи блюд:

- а) Холодные закуски
- б) Первое блюдо (суп)
- в) Вторые горячие блюда — рыбные
- г) Горячие закуски
- д) Вторые горячие блюда — мясные
- е) Сыр
- ж) Свежие фрукты
- з) Десерт — сладкое блюдо
- и) Кофе

6. Установите правильную последовательность приготовления блюда «Плеховские пампушки»:

- а) сладкое дрожжевое тесто слегка раскатывают и делят на полоски средней толщины
- б) заготовки выкладывают на противень
- в) разрезают каждую полоску на небольшие кусочки, примерно по 2 см шириной
- г) поливают кремом из меда и толченого мака
- д) смазывают сверху взбитым яйцом
- е) пампушки выпекают в русской печи

7. Установите правильную последовательность подачи вторых блюд:

- а) рыбные, мясные
- б) птица, дичь
- в) овощные
- г) яичные
- д) крупяные
- е) мучные.

8. Установите правильную последовательность приготовления «горохового киселя»:

- а) стакан сухого гороха тщательно перемалываем в муку



- б) гороховую пудру несильно разводим водой и размешиваем
- в) выливаем в кипящую воду
- г) солим
- д) варим, постоянно помешивая 20 минут
- е) режем кольцами лук и обжариваем его до золотистого цвета
- ж) кисель посыпаем луком
- з) кашицеобразный кисель выливаем в посуду, оставляем остывать и застывать на 30 минут
- и) застывший кисель аккуратно извлекаем из форм

9. Установите правильную последовательность приготовления теста для Путивльских пряников

- а) отварить картофель
- б) тщательно вымешать, взбить в пюре
- в) украсить зеленью
- г) добавить сливочное масло, молоко
- д) по одному вбить сырые яйца
- е) массу выложить в глиняную форму, смазанную жиром
- ж) поверхность выровнять, смазать сметаной и запечь

**Шкала оценивания результатов тестирования:** в соответствии с действующей в университете балльно-рейтинговой системой оценивание результатов промежуточной аттестации обучающихся осуществляется в рамках 100-балльной шкалы, при этом максимальный балл по промежуточной аттестации обучающихся по очной форме обучения составляет 36 баллов, по очно-заочной и заочной формам обучения – 60 баллов (установлено положением П 02.016).

Максимальный балл за тестирование представляет собой разность двух чисел: максимального балла по промежуточной аттестации для данной формы обучения (36 или 60) и максимального балла за решение компетентностно-ориентированной задачи (6).

Балл, полученный обучающимся за тестирование, суммируется с баллом, выставленным ему за решение компетентностно-ориентированной задачи.

Общий балл по промежуточной аттестации суммируется с баллами, полученными обучающимся по результатам текущего контроля успеваемости в течение семестра; сумма баллов переводится в оценку по шкале (указать нужно: по 5-балльной шкале или дихотомической шкале) следующим образом:

### Соответствие 100-балльной и 5-балльной шкал

<i>Сумма баллов по 100-балльной шкале</i>	<i>Оценка по 5-балльной шкале</i>
100-85	отлично
84-70	хорошо
69-50	удовлетворительно
49 и менее	неудовлетворительно

#### ***Критерии оценивания результатов тестирования:***

Каждый вопрос (задание) в тестовой форме оценивается по дихотомической шкале: выполнено – **2 балла**, не выполнено – **0 баллов**.

## ***2.2 КОМПЕТЕНТНОСТНО-ОРИЕНТИРОВАННЫЕ ЗАДАЧИ***

### *Кейс-задача № 1*

Паспорт какого архитектурного объекта Курской области представлен ниже?

*Комплекс является родовым помещением известных князей «...». Сооружение здания произошло в начале 19 века, и оно состоит из трёх этажей. Рядом с усадьбой размещён невероятной красоты пруд. Сразу после постройки здания на её территории был размещён целый театр в оркестре, которого насчитывалось около 60 музыкантов.*

*В период с 1869 по 1873 года усадьба была полностью перестроена, согласно модному веянию того времени неоклассицизму.*

*За весь период своего существования усадьба примерила на себе роли сельскохозяйственного техника, дома отдыха, а затем и санатория (период СССР). На данном этапе времени на территории усадьбы размещен санаторий Управления делами Президента России.*

Ответ: \_\_\_\_\_.

### *Кейс-задача № 2*

Какие памятники курянам – деятелям литературы и искусства установлены в нашем городе? Расскажите об одном курянине – деятеле искусства, которому установлен памятный бюст или памятник в Курске.

Ответ: \_\_\_\_\_.

### *Кейс-задача № 3*

На трафарете карты Курской области поставьте точки-локации гастрономических брендов региона.

Ответ: \_\_\_\_\_.

*Кейс-задача № 4*

Какие блюда входят в православную кухню Курского края, дайте характеристику одному из них.

Ответ: \_\_\_\_\_.

*Кейс-задача № 5*

Составьте текст проведения экскурсии по усадьбе А.А. Фета с включением программы китчен-шоу одного из блюд Рыльского района.

Ответ: \_\_\_\_\_.

*Кейс-задача № 6*

Составьте перечень гостинично-ресторанных предприятий, предлагающих гастрономические бренды в качестве блюд по меню. (Наименование-адрес-наименование блюда- цена)

Ответ: \_\_\_\_\_.

*Кейс-задача № 7*

Разработайте презентацию с поэтапным рецептом блюда «Суджанские вареники с дырочкой»

Ответ: \_\_\_\_\_.

*Кейс-задача № 8*

Для оценки объектов, которые включаются в гастрономическую экскурсию, рекомендуется использовать некоторые критерии. Назовите эти критерии и кратко охарактеризуйте три из них.

Ответ: \_\_\_\_\_.

*Кейс-задача № 9*

Опишите историю «Богатой каши», связь этого блюда с праздником «Ореховый спас» в августе.

Ответ: \_\_\_\_\_.

*Кейс-задача № 10*

Какой гастрономический бренд района является любимым блюдом знаменитого физика, отца атомной бомбы СССР. Дайте характеристику этому блюду.

Ответ: \_\_\_\_\_.

*Кейс-задача № 11*

Малые исторические города Курской области богаты достопримечательностями. Выберите наиболее привлекательный для вас город и составьте экскурсионный маршрут по нему.

Ответ: \_\_\_\_\_.

### *Кейс-задача № 12*

Прочтите отрывок из книги немецкого историка Пауль Карелл «Выжженная земля» о великой битве на северном фланге Курской дуги в 1943 г.:

*«... В наивысший момент битвы на каждой стороне сражается от 1000 до 1200 танков и боевых орудий (САУ), многочисленные авиационные эскадры, и 3000 орудий всех калибров дополняют эту ужасную дуэль. Речь идет о высотах Ольховатки с ядром-высотой 274.*

*Эти высоты были оперативной целью Моделя. Здесь заключалась решающая тайна операции, здесь находился ключ, ведущий в Курск.»*

Он считает бои в районе с. Ольховатка «эпицентром Второй мировой войны». Объясните почему?

Ответ: \_\_\_\_\_.

### *Кейс-задача № 13*

Какие памятники общественного и государственного строя Курской области вам известны? Составьте описание по одному из них.

Ответ: \_\_\_\_\_.

### *Кейс-задача № 14*

В Курской области насчитывается большое количество усадеб, которые представляют собой значимую историческую ценность. Опишите одну наиболее интересующую вас усадьбу: укажите ее местоположение, кому она принадлежала, в какие годы была построена и в каком состоянии дошла до наших дней.

Ответ: \_\_\_\_\_.

### *Кейс-задача № 15*

Составьте текст проведения экскурсии по усадьбе А.А. Фета согласно схеме построения экскурсии, соблюдая все этапы.

Ответ: \_\_\_\_\_.

### *Кейс-задача № 16*

Прочтите описание культурного объекта Курской области и ответьте на вопросы.

*Памятником архитектуры классицизма является бывший архиерейский дом, находящийся рядом со Знаменским монастырем. Сводчатые комнаты первого этажа этого здания сохранились от древней постройки XVII века. Здесь находились когда-то покои игумена монастыря. В начале XIX века была возведена основная часть дома с традиционным*

*фронтоном и шестиколонным портиком, а в 1853 г. к зданию были сделаны две пристройки с северной и южной стороны.*

Назовите культурный объект, о котором идёт речь в тексте.

В каком году данный объект стал располагаться в архиерейском доме?

Можно ли назвать представленный культурный объект популярным среди туристов? Если да, то почему?

Ответ: \_\_\_\_\_.

#### *Кейс-задача № 17*

Укажите три вида указаний экскурсовода в зависимости от времени их воздействия на аудиторию и поясните каждый из них.

Ответ: \_\_\_\_\_.

#### *Кейс-задача № 18*

В практике выделяют шесть особенностей рассказа. Назовите и поясните любые 3 из них.

Ответ: \_\_\_\_\_.

#### *Кейс-задача № 19*

Маршрут экскурсии строится по принципу наиболее правильной последовательности осмотра объектов и намечается с учетом определённых требований. Назовите эти требования.

Ответ: \_\_\_\_\_.

#### *Кейс-задача № 20*

Для оценки объектов, которые включаются в экскурсию, рекомендуется использовать некоторые критерии. Назовите эти критерии и кратко охарактеризуйте три из них.

Ответ: \_\_\_\_\_.

#### *Кейс-задача № 21*

Назовите основные типы парков и кратко охарактеризуйте их.

**Шкала оценивания решения кейс-задачи:** в соответствии с действующей в университете балльно-рейтинговой системой оценивание результатов промежуточной аттестации обучающихся осуществляется в рамках 100-балльной шкалы, при этом максимальный балл по промежуточной аттестации обучающихся по очной форме обучения составляет 36 баллов, по очно-заочной и заочной формам обучения – 60 (установлено положением П 02.016).

Максимальное количество баллов за решение кейс-задачи – 6 баллов.

Балл, полученный обучающимся за решение кейс-задачи, суммируется с баллом, выставленным ему по результатам тестирования.

Общий балл промежуточной аттестации суммируется с баллами, полученными обучающимся по результатам текущего контроля успеваемости в течение семестра; сумма баллов переводится в оценку по шкале (*указать нужное: по 5-балльной шкале или дихотомической шкале*) следующим образом:

Соответствие 100-балльной и 5-балльной шкал

<i>Сумма баллов по 100-балльной шкале</i>	<i>Оценка по 5-балльной шкале</i>
100-85	отлично
84-70	хорошо
69-50	удовлетворительно
49 и менее	неудовлетворительно

### ***Критерии оценивания решения кейс-задачи***

*(нижеследующие критерии оценки являются примерными и могут корректироваться):*

**6-5 баллов** выставляется обучающемуся, если решение задачи демонстрирует глубокое понимание обучающимся предложенной проблемы и разностороннее ее рассмотрение; свободно конструируемая работа представляет собой логичное, ясное и при этом краткое, точное описание хода решения задачи (последовательности (или выполнения) необходимых трудовых действий) и формулировку доказанного, правильного вывода (ответа); при этом обучающимся предложено несколько вариантов решения или оригинальное, нестандартное решение (или наиболее эффективное, или наиболее рациональное, или оптимальное, или единственно правильное решение); задача решена в установленное преподавателем время или с опережением времени.

**4-3 балла** выставляется обучающемуся, если решение задачи демонстрирует понимание обучающимся предложенной проблемы; задача решена типовым способом в установленное преподавателем время; имеют место общие фразы и (или) несущественные недочеты в описании хода решения и (или) вывода (ответа).

**2-1 балла** выставляется обучающемуся, если решение задачи демонстрирует поверхностное понимание обучающимся предложенной проблемы; осуществлена попытка шаблонного решения задачи, но при ее решении допущены ошибки и (или) превышено установленное преподавателем время.

**0 баллов** выставляется обучающемуся, если решение задачи демонстрирует непонимание обучающимся предложенной проблемы, и (или) значительное место занимают общие фразы и голословные рассуждения, и (или) задача не решена.