

МИНОБРНАУКИ РОССИИ

Федеральное государственное бюджетное образовательное
учреждение высшего образования
«Юго-Западный государственный университет»
(ЮЗГУ)

Кафедра механики, мехатроники и робототехники

УТВЕРЖДАЮ

Проректор по учебной работе

Иванов И.И.

« 15 » 12 (ЮЗГУ) 2017 г.



ПОСТРОЕНИЕ ТРЕХМЕРНОЙ МОДЕЛИ ВТУЛКИ И ЕЕ ЧЕРТЕЖА СРЕДСТВАМИ САПР

Методические указания по выполнению лабораторной работы по
курсу «Системы автоматизированного проектирования элементов
конструкций» для студентов направления 15.03.06 «Мехатроника и
робототехника»

Курск 2017

УДК 62.231

Составители Л.Ю. Ворочаева, Е.Н. Политов

Рецензент

Кандидат технических наук, доцент *В.Я. Мищенко*

Построение трехмерной модели втулки и ее чертежа средствами САПР: методические указания по выполнению лабораторной работы по курсу «Системы автоматизированного проектирования элементов конструкций» / Юго-Зап. гос. ун-т; сост. Л.Ю. Ворочаева, Е.Н. Политов. Курск, 2015. 17 с.

Методические указания содержат сведения по построению трехмерной модели втулки и ее чертежа. Приведены варианты задания, пример проектирования модели втулки.

Методические указания соответствуют требованиям программы, утверждённой учебно-методическим объединением (УМО).

Текст печатается в авторской редакции

Подписано в печать . Формат 60x84 1/16.

Усл.печ.л. 1,4. Уч.-изд.л. 1,3. Тираж 30 экз. Заказ. Бесплатно.

Юго-Западный государственный университет.

305040 Курск, ул. 50 лет Октября, 94.

Содержание

| | |
|-------------------------------------|----|
| Задание | 4 |
| Ход выполнения работы | 5 |
| Построение трехмерной модели втулки | 5 |
| Построение чертежа втулки | 8 |
| Контрольные вопросы | 15 |
| Рекомендательный список литературы | 15 |

Методические указания направлены на формирование следующих компетенций:

ОПК-3 – владение современными информационными технологиями, готовность применять средства автоматизированного проектирования и машинной графики при проектировании систем и их отдельных модулей, а также для подготовки конструкторско-технологической документации, соблюдать основные требования информационной безопасности,

ПК-11 - способность производить расчеты и проектирование отдельных устройств и подсистем мехатронных и робототехнических систем с использованием стандартных исполнительных и управляющих устройств, средств автоматики, измерительной и вычислительной техники в соответствии с техническим заданием,

ПК-12 - способность разрабатывать конструкторскую и проектную документацию механических, электрических и электронных узлов мехатронных и робототехнических систем в соответствии с имеющимися стандартами и техническими условиями.

Задание

1 Построить трехмерную модель втулки в соответствии с данными таблицы 1, где L_v – длина, d_v – внутренний диаметр. Внешний диаметр втулки D_v выбирается таким образом, чтобы втулка не соприкасалась с внешним кольцом подшипника качения.

2 Построить чертеж втулки с ее трехмерной модели.

3 Проставить необходимые размеры, посадочные и присоединительные размеры указать с учетом отклонений, остальные размеры выполнить по 14 качеству.

4 Указать шероховатость посадочных поверхностей, неуказанная шероховатость для остальных поверхностей Ra 6,3.

Табл. 1 - Геометрические размеры параметров втулки

| № | d_v | L_v |
|---|-------|-------|
| 1 | 8 | 8 |
| 2 | 12 | 10 |
| 3 | 10 | 6 |
| 4 | 15 | 5 |
| 5 | 17 | 7 |

| | | |
|----|----|----|
| 6 | 10 | 9 |
| 7 | 9 | 10 |
| 8 | 20 | 12 |
| 9 | 25 | 11 |
| 10 | 12 | 10 |
| 11 | 15 | 12 |
| 12 | 9 | 7 |
| 13 | 20 | 8 |
| 14 | 17 | 9 |
| 15 | 20 | 6 |
| 16 | 10 | 10 |
| 17 | 15 | 9 |
| 18 | 12 | 6 |
| 19 | 9 | 7 |
| 20 | 8 | 10 |
| 21 | 25 | 12 |
| 22 | 30 | 11 |
| 23 | 17 | 9 |
| 24 | 12 | 10 |

Ход выполнения работы

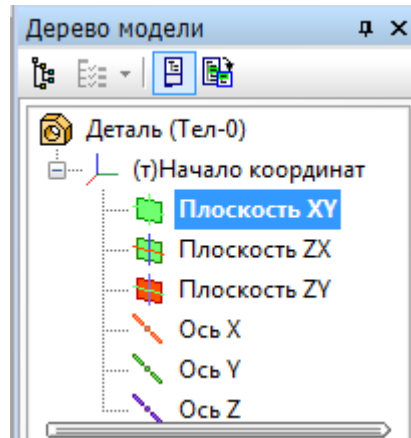
Необходимо построить втулку для закрепления зубчатого колеса на валу. Параметры втулки:

| L_v , мм | d_v , мм | D_v , мм |
|------------|------------|------------|
| 5 | 30 | 48 |

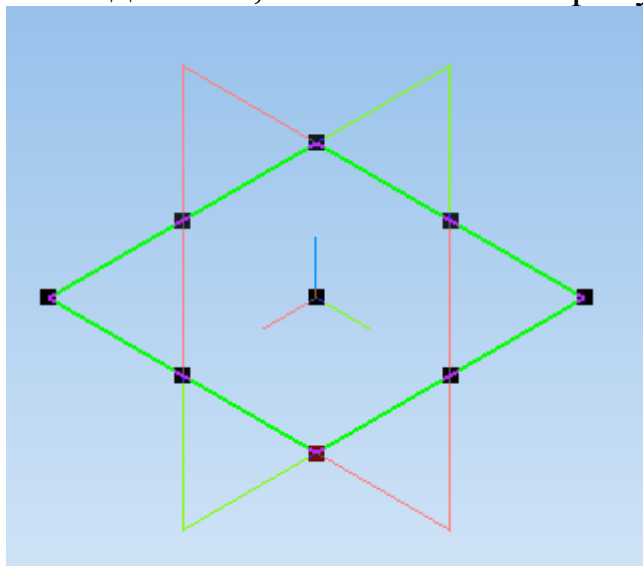
L_v – длина, d_v – внутренний диаметр, D_v - внешний диаметр.


Построение трехмерной модели втулки

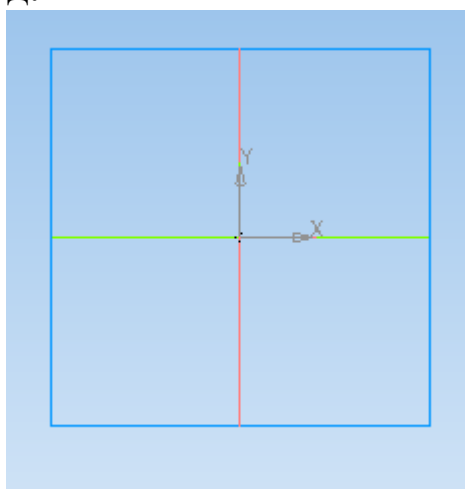
Создайте и сохраните файл детали. Выберите плоскость, в которой будете делать эскиз, в *Дереве модели*, например, *Плоскость XY*.




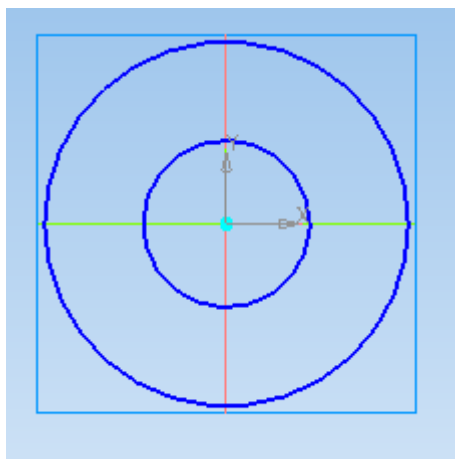
При этом она выделится, как показано на рисунке.





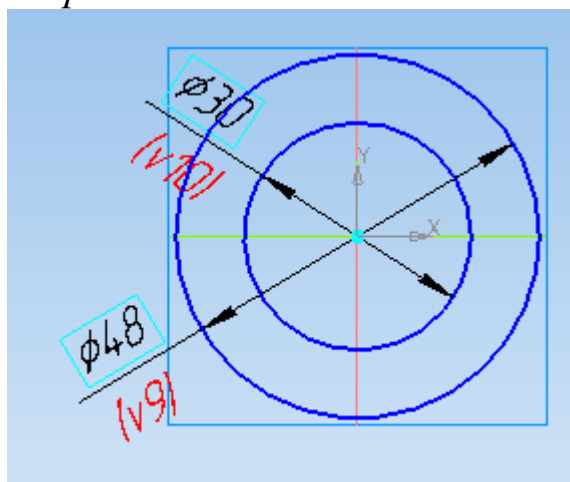
На верхней панели нажмите кнопку *Создать эскиз* . *Плоскость XY* примет вид:





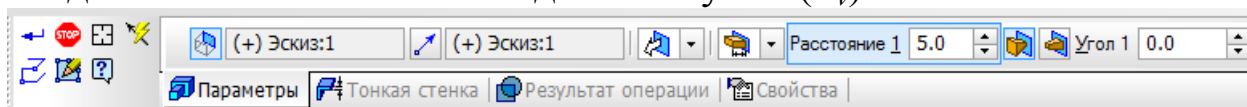
На панели *Геометрия*  выберите команду *Окружность* и постройте две окружности произвольных радиусов с центром в начале координат.



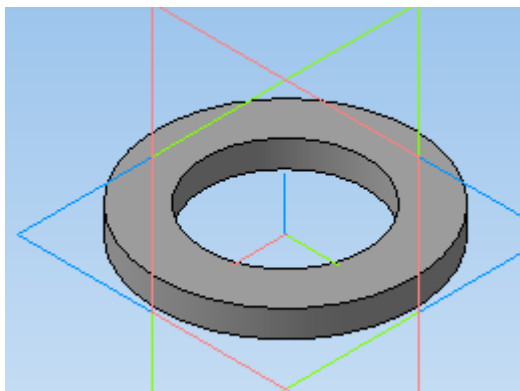
Проставьте внешний D_v и внутренний d_v диаметры окружности, выбрав на панели инструментов *Размеры*  подпункт *Диаметральный размер* .



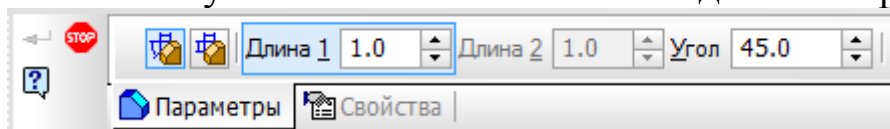
Нажмите кнопку *Операция выдавливания*  на панели *Редактирование детали* . В поле *Расстояние* на панели свойств введите численное значение длины втулки (L_v).



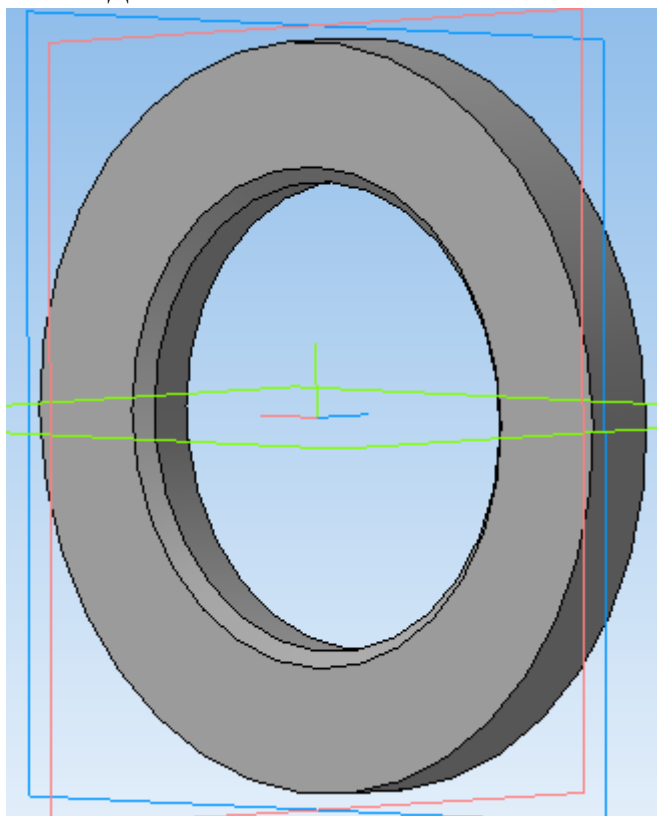
Нажмите кнопку *Создать объект* .



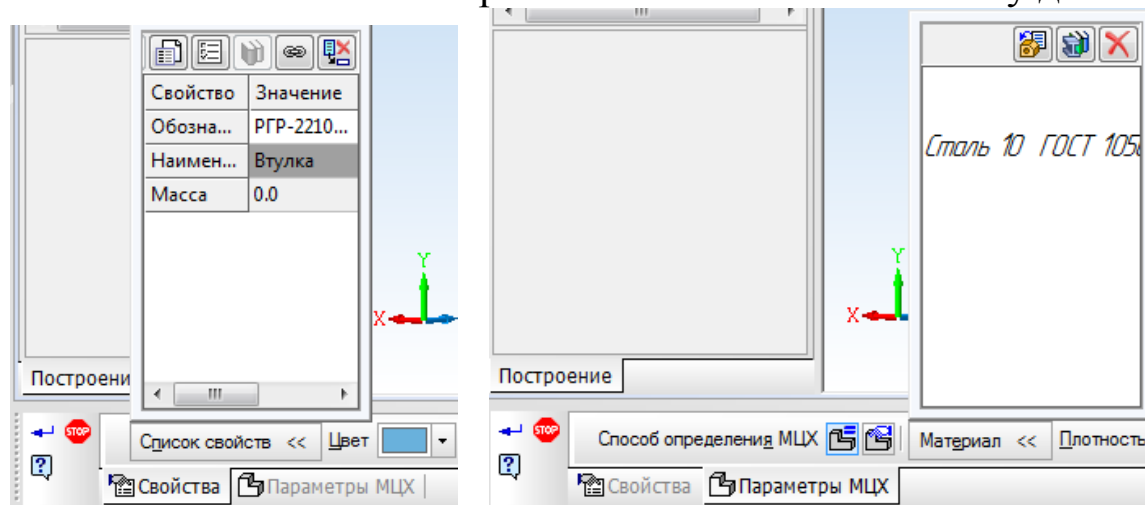
Постройте фаску на внутреннем диаметре втулки, используя команду *Фаска* вкладки *Редактирование детали*. На Панели свойств указывается значения длины фаски и ее угла.

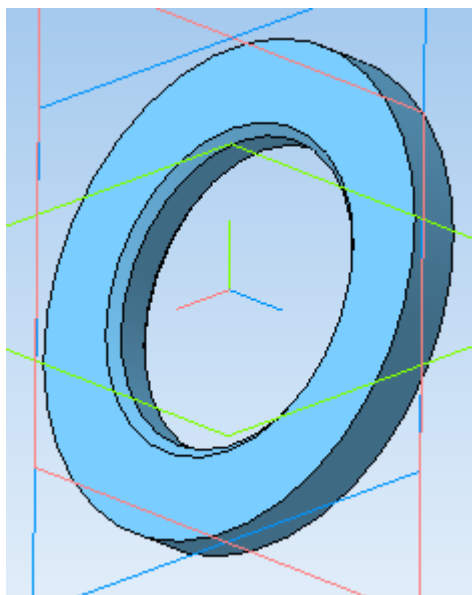


Подтверждаем ввод объекта .




Задайте свойства детали, ее наименование, обозначение и укажите материал, из которого она изготовлена, вызвав панель *Свойства модели* нажатием правой клавиши мыши по окну детали.

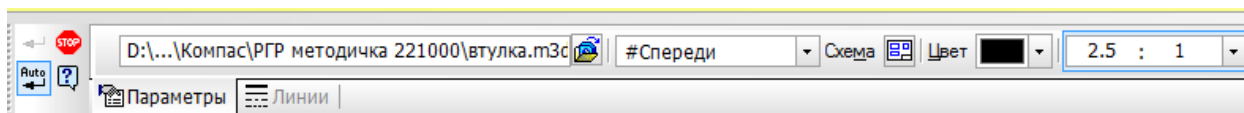


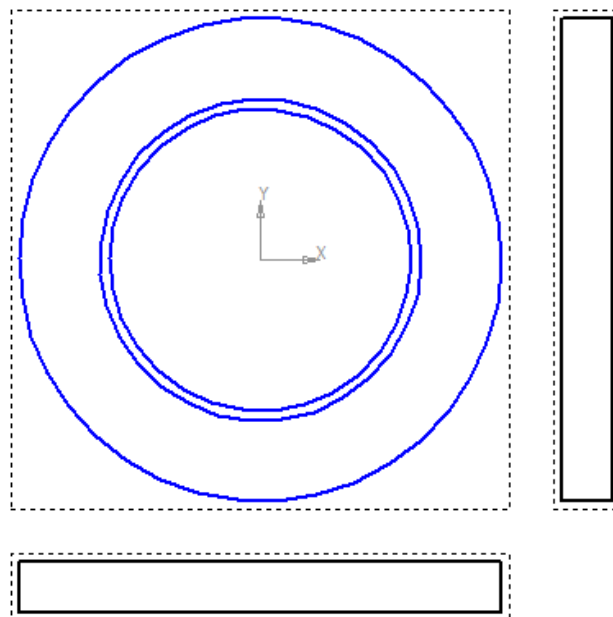




Построение чертежа втулки

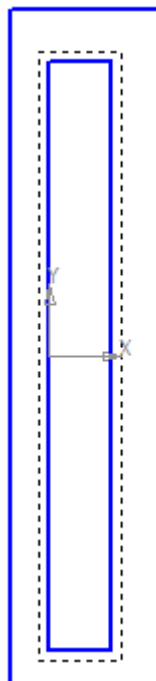
Создайте файл чертежа и сохраните его. Выберите формат и его ориентацию для изображения детали в нужном масштабе.



Используя кнопку *Стандартные виды* на инструментальной панели *Виды* , постройте три вида детали, предварительно выбрав масштаб на панели свойств.



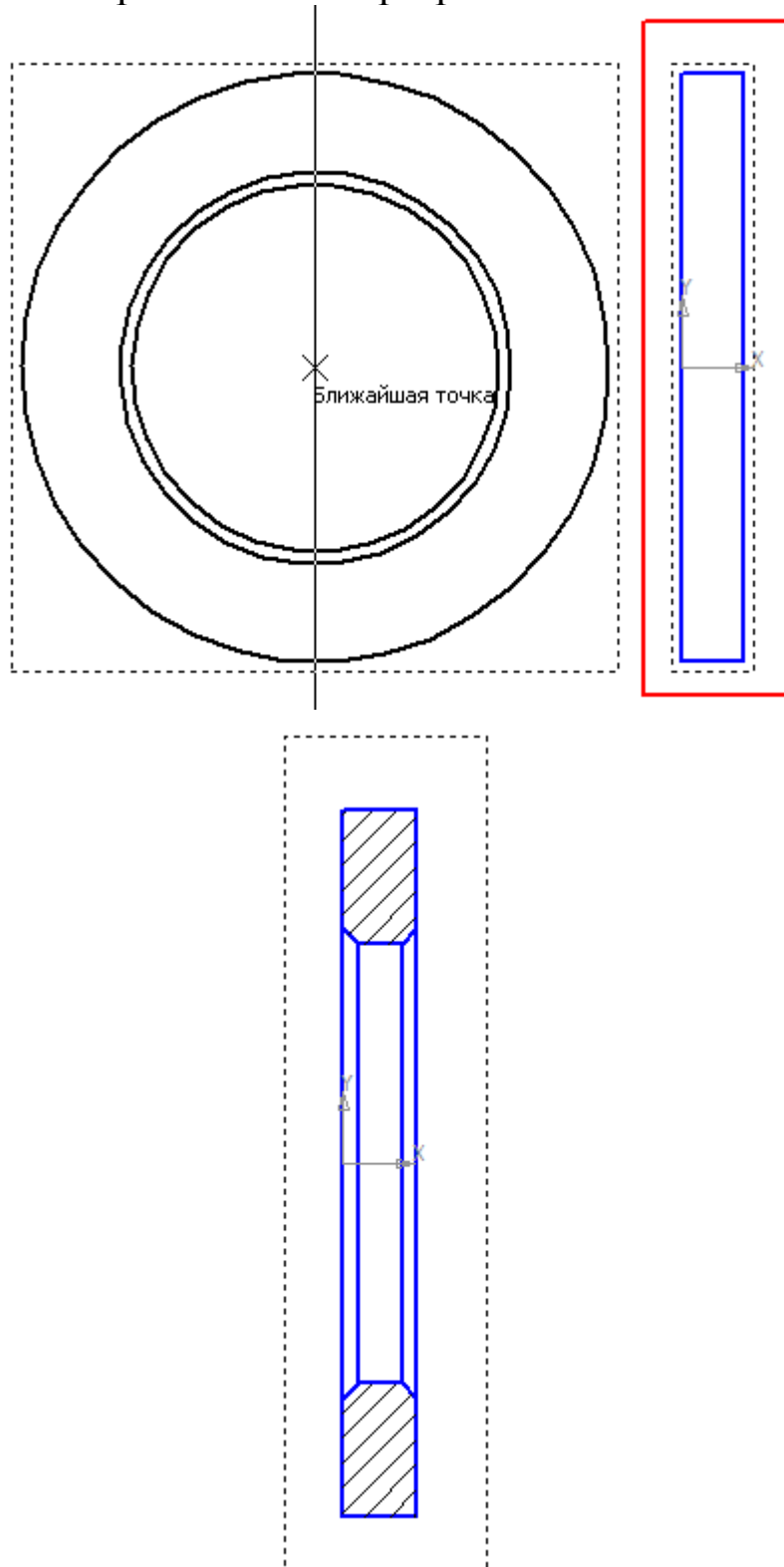


Для втулки не требуется трех видов, достаточно построить местный разрез и указать на нем все необходимые размеры. На панели инструментов *Геометрия*  выберите *Прямоугольник*  и нарисуйте прямоугольник так, чтобы вид слева располагался внутри этого прямоугольника. Вид слева при этом должен быть активным.




На панели инструментов *Виды*  выберите вкладку *Местный разрез* . Укажите левой клавишей мыши замкнутый контур и покажите положение оси секущей плоскости местного разреза –

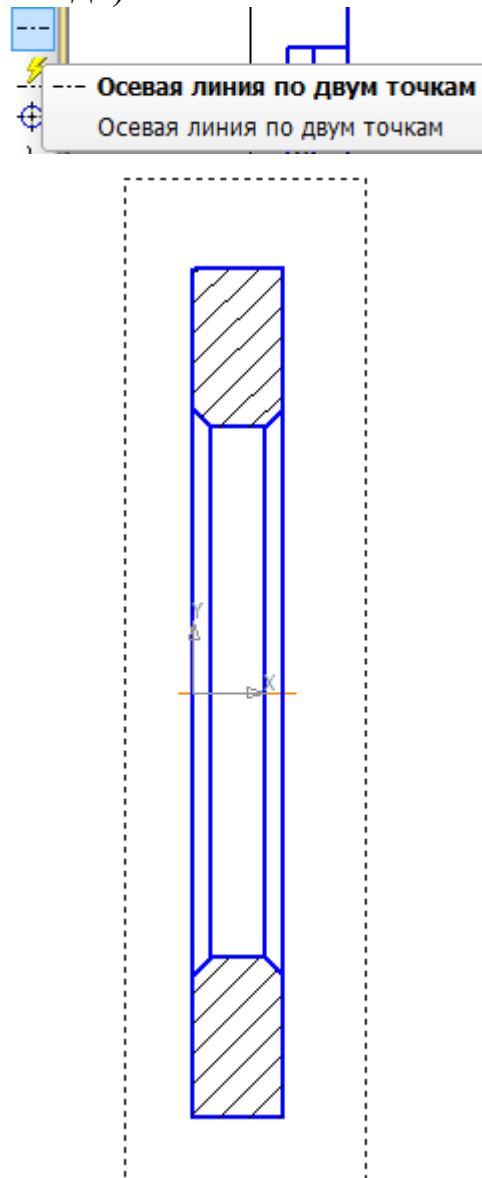
вертикальную осевую линию на виде спереди. Система автоматически построит местный разрез.



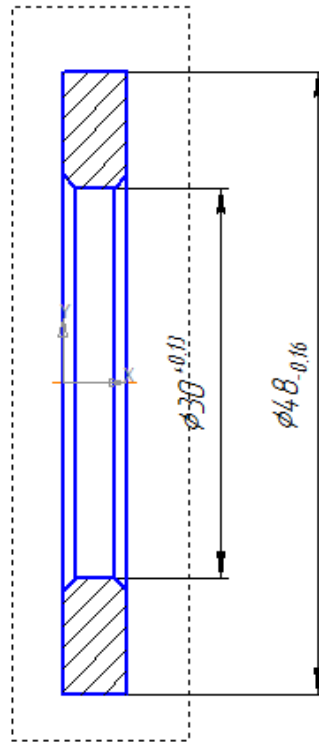
Удалите остальные виды.

Для построения осевой линии на панели инструментов Обозначения  выберите *Осевая линия по двум точкам*. Укажите

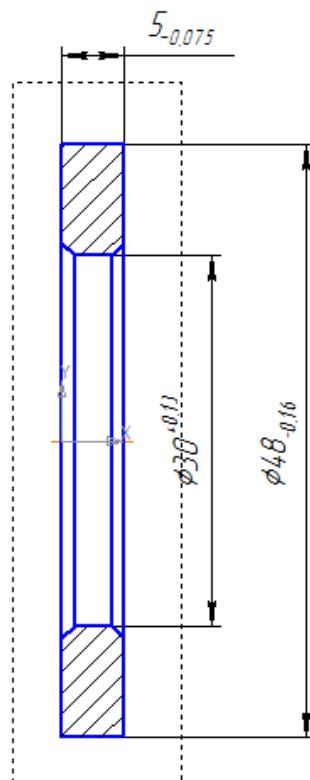
начальную и конечную точки построения осевой (то есть крайние левую и правую точки вида).



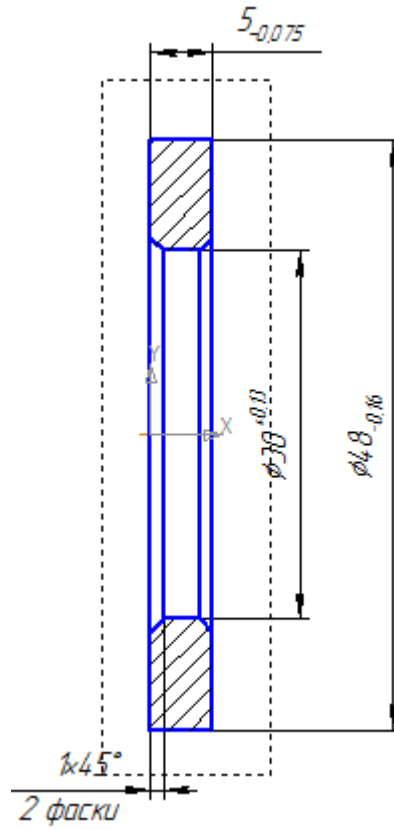
Укажите внешний и внутренний диаметры втулки, причем внутренний задается по посадке Н (Н11), а внешний – по посадке h (h11). Для задания размера используется команда *Линейный размер* вкладки *Размеры*, в окне *Задание размерной надписи* выбирается значок диаметра и квалитет в системе вала или отверстия.



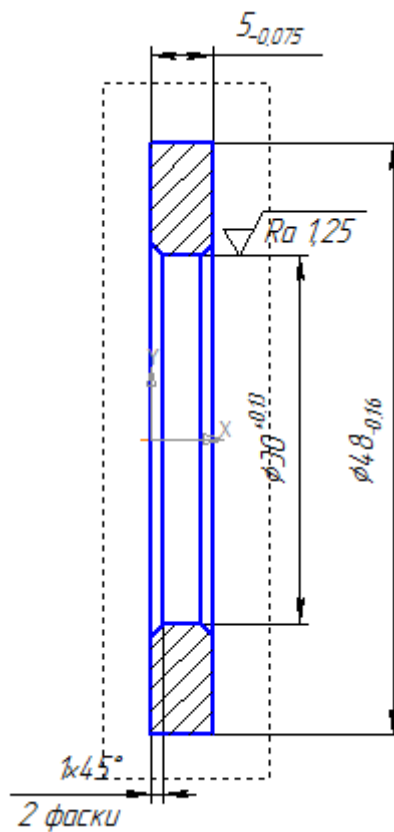
Задайте ширину втулки, указывая предельные отклонения размера по h11.



Задайте значения фасок и их число в окне *Задание размерной надписи*.



Укажите шероховатость поверхности втулки, взаимодействующей с валом.




Неуказанную шероховатость задайте равной Ra 6,3. Технические требования можно не указывать, т.к. все размеры и их отклонения заданы на чертеже.

Для заполнения основной надписи выполните по ней двойной щелчок левой клавишей мыши.

Графы *Наименование*, *Обозначение*, *Материал*, *Масса* заполняются системой автоматически, требуемые данные берутся из трехмерной модели детали.

Заполните графы *Разраб.* и *Пров.*, а также при изменении масштаба изображения детали графу *Масштаб*.

После заполнения штампа нажмите кнопку *Создать объект* .

Чертеж втулки имеет вид.

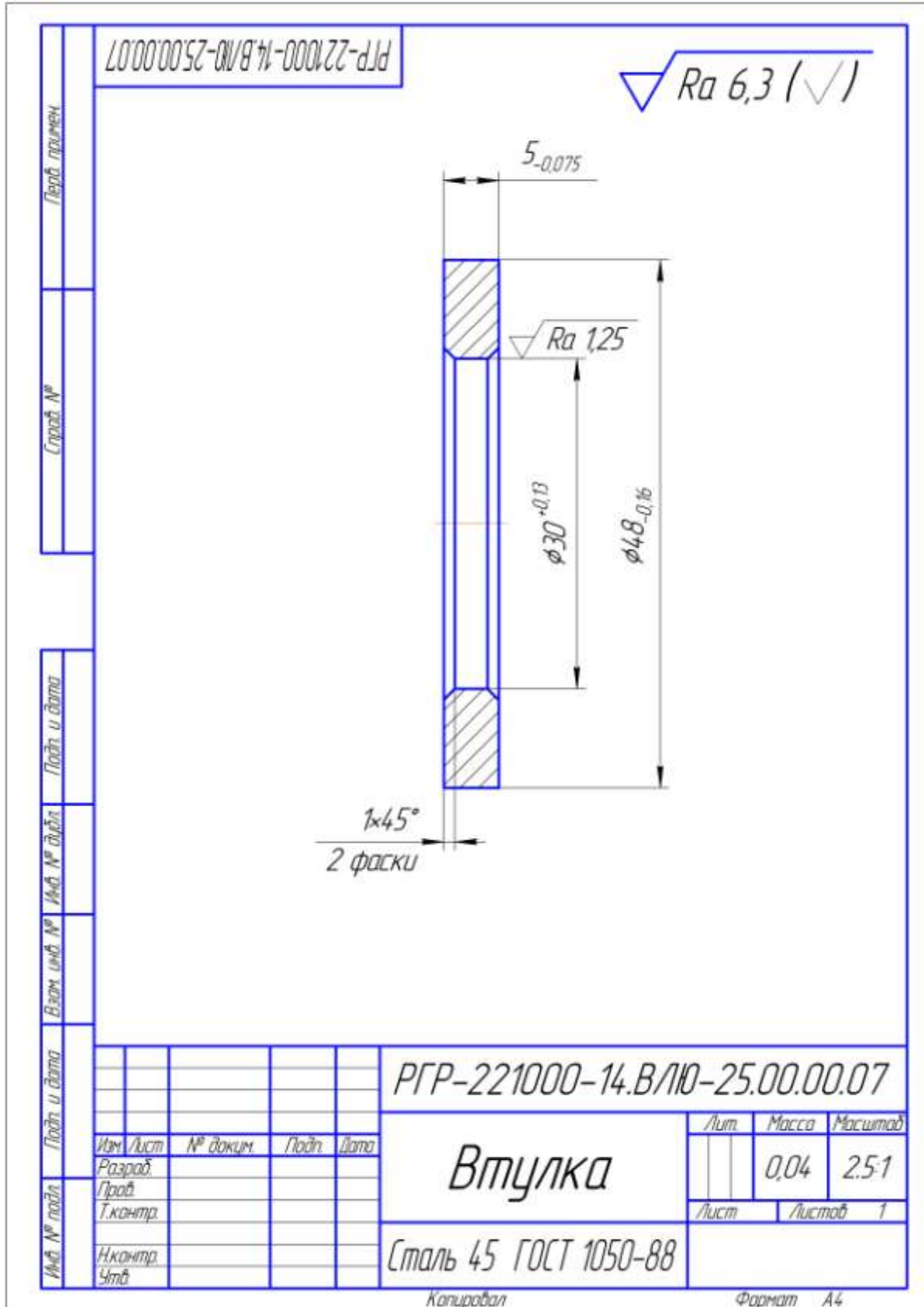
Контрольные вопросы

1. Опишите последовательность действий при построении трехмерной модели втулки?
2. С использованием какой операции эскизу втулки можно придать объем?
3. Сколько видов необходимо для построения чертежа втулки?
4. Какие размеры втулки соответствуют техническому заданию, а какие выбираются из конструкторских соображений?
5. Сколько размеров необходимо указать на чертеже втулки?
6. Какие поля допусков необходимо указать для внешнего и внутреннего диаметров втулки и ее длины?
7. Для каких поверхностей втулки необходимо указать шероховатость?

Рекомендательный список литературы

1. Большаков В.П., Бочков А.Л. Основы 3D-моделирования. – Питер. – 2012. - 304 с.
2. Большаков В.П., Тозик В.Т., Чагина А.В. Инженерная и компьютерная графика. - БХВ-Петербург. – 2012. - 208 с.
3. КОМПАС 3D V15. Руководство пользователя. – АСКОН. - 2014. – 526 с.

4. Ганин Н.Б. Трехмерное проектирование в КОМПАС-3D. - ДМК-Пресс. – 2012. - 784 с.
5. Герасимов А.А. Новые возможности КОМПАС-3D V13. Самоучитель. - БХВ-Петербург. – 2011. - 288с.



Копировал

Формат А4