

Документ подписан простой электронной подписью

Информация о владельце:

ФИО: Емельянов Сергей Геннадьевич

Должность: ректор

Дата подписания: 04.10.2023 10:44:16

Уникальный программный ключ:

9ba7d3e34c012eba476ffd2d064cf2781953be730df2374d16f3c0ce536f0fc6

## МИНОБРНАУКИ РОССИИ

Федеральное государственное бюджетное образовательное  
учреждение высшего образования  
«Юго-Западный государственный университет»  
(ЮЗГУ)

Кафедра высшей математики



### ***КОМПЛЕКСНЫЕ ЧИСЛА И МНОГОЧЛЕНЫ***

***Методические указания и индивидуальные задания к модулю***

Курск 2018

**УДК 512.64**

Составитель *Т.В. Шевцова*

Рецензент

Кандидат педагогических наук,  
доцент кафедры высшей математики Студеникина Л.И.

**Комплексные числа и многочлены:** методические указания и индивидуальные задания к модулю /Юго-Зап. гос. ун-т; сост. Т.В. Шевцова. Курск, ЮЗГУ, 2018. 30 с. Библиогр.: с. 30.

В работе содержатся теоретические упражнения, практические задания по теме «Комплексные числа и многочлены», а также рекомендации по их выполнению. Индивидуальные задания разбиты на три уровня сложности.

Предназначено для студентов всех направлений подготовки.

Текст печатается в авторской редакции

Подписано в печать 3.05.18. Формат 60×84 1/16.

Усл. печ. л. 1,7. Уч.-изд. л. 1,6. Тираж 100 экз. Заказ 1983. Бесплатно.

Юго-Западный государственный университет

305040 Курск, ул. 50 лет Октября, 94

## Содержание

Введение.....	4
Индивидуальные задания.....	5
Теоретические упражнения.....	5
Упражнение 1.....	5
Упражнение 2.....	7
Практические задания.....	9
Задание 1.....	9
Задание 2.....	10
Задание 3.....	11
Задание 4.....	12
Задание 5.....	13
Задание 6.....	14
Задание 7.....	15
Задание 8.....	16
Задание 9.....	17
Задание 10.....	19
Примеры выполнения заданий.....	20
Пример 1.....	20
Пример 2.....	20
Пример 3.....	21
Пример 4.....	21
Пример 5.....	22
Пример 6.....	24
Пример 7.....	26
Пример 8.....	26
Пример 9.....	29
Список рекомендуемой литературы.....	30

## Введение

Данная методическая разработка предназначена для организации и контроля индивидуальной самостоятельной работы студентов и является аналогом изданной ранее учебно-методической разработки «Комплексные числа».

Разработка подготовлена для студентов всех направлений подготовки, изучающих в рамках математической дисциплины темы «Комплексные числа» и «Многочлены одной переменной». Она содержит как индивидуальные задания, так и методические указания по их выполнению. Студентам предлагается выполнить теоретические упражнения и практические задания на действия с комплексными числами в алгебраической, тригонометрической и экспоненциальной формах записи, представление комплексных чисел точками комплексной плоскости, нахождение корней многочленов второй, третьей и четвертой степени во множестве комплексных чисел, вывод свойств комплексных чисел и многочленов.

В каждом задании предложено 20 вариантов задач, выбор варианта осуществляется согласно номеру  $n$  в журнале.

Выполнение работы разделяется по трем уровням сложности.

Уровень сложности	Теоретические упражнения	Практические задания
Первый	1 под номером $n$	1, 3, 4, 5, 7
Второй	1, 2 под номером $n$	1, 2, 3, 4, 5, 7, 8, 9
Третий	1,2 под номером $n$	Все

Выбранный уровень влияет на общее количество баллов, получаемых за модуль.

Разработку можно использовать при выполнении домашних заданий и при подготовке к экзамену.

Список литературы отражает некоторые учебные пособия, которые рекомендуется использовать при выполнении модуля.

## Индивидуальные задания

### Теоретические упражнения

#### Упражнение 1

1. Доказать, что модуль суммы комплексных чисел меньше или равен сумме модулей этих чисел:

$$|z_1 + z_2| \leq |z_1| + |z_2|.$$

2. Доказать, что для комплексных чисел  $z_1$  и  $z_2$  верно неравенство:

$$|z_1 - z_2| \geq \left| |z_1| - |z_2| \right|.$$

3. Доказать, что сложение комплексных чисел коммутативно:

$$z_1 + z_2 = z_2 + z_1.$$

4. Доказать, что сложение комплексных чисел ассоциативно:

$$z_1 + (z_2 + z_3) = (z_1 + z_2) + z_3.$$

5. Доказать, что умножение комплексных чисел коммутативно:

$$z_1 \cdot z_2 = z_2 \cdot z_1.$$

6. Доказать, что сложение и умножение комплексных чисел удовлетворяют закону дистрибутивности:

$$z_1 \cdot (z_2 + z_3) = z_1 \cdot z_2 + z_1 \cdot z_3.$$

7. Доказать, что для комплексного числа  $z \neq -1$  справедливо утверждение:

$$\operatorname{Re} \frac{z-1}{z+1} = 0 \Leftrightarrow |z| = 1.$$

8. Доказать формулу Муавра в тригонометрической форме:

$$\text{если } z = r(\cos \varphi + i \sin \varphi), \text{ то } z^n = r^n (\cos n\varphi + i \sin n\varphi).$$

9. Доказать, что сумма комплексно-сопряженных чисел является действительным числом.

10. Доказать, что произведение комплексно-сопряженных чисел является действительным числом.

11. Доказать, что разность комплексно-сопряженных чисел в общем виде не является действительным числом.

12. Доказать, что модули комплексно-сопряженных чисел равны.

13. Доказать, что комплексное число, сопряженное сумме комплексных чисел, равно сумме чисел, сопряженных слагаемым:

$$\overline{z_1 + z_2} = \overline{z_1} + \overline{z_2}.$$

14. Доказать, что комплексное число, сопряженное произведению комплексных чисел, равно произведению чисел, сопряженных сомножителям:

$$\overline{z_1 z_2} = \overline{z_1} \cdot \overline{z_2}.$$

15. Доказать, что модуль произведения комплексных чисел равен произведению модулей этих чисел:

$$|z_1 z_2| = |z_1| \cdot |z_2|.$$

16. Доказать, что модуль частного комплексных чисел равен частному модулей этих чисел:

$$\left| \frac{z_1}{z_2} \right| = \frac{|z_1|}{|z_2|}.$$

17. Доказать, что комплексное число, сопряженное частному двух данных комплексных чисел, равно частному чисел, сопряженных данным:

$$\overline{\left( \frac{z_1}{z_2} \right)} = \frac{\overline{z_1}}{\overline{z_2}}.$$

18. Доказать формулу Эйлера:

$$\cos \varphi = \frac{e^{i\varphi} + e^{-i\varphi}}{2}.$$

19. Доказать формулу Эйлера:

$$\sin \varphi = \frac{e^{i\varphi} - e^{-i\varphi}}{2i}.$$

20. Доказать верность равенства:

$$e^{i\pi} = -1.$$

## Упражнение 2

1. Доказать, что многочлен с положительными коэффициентами не может иметь положительных корней.
2. Доказать, что если несократимая дробь  $\frac{p}{q}$  является корнем уравнения с целыми коэффициентами

$$a_n x^n + a_{n-1} x^{n-1} + \dots + a_1 x + a_0 = 0,$$

то число  $p$  есть делитель свободного члена  $a_0$ , а число  $q$  есть делитель старшего коэффициента  $a_n$ .

3. Доказать, что если  $z = a + bi$  – комплексный корень многочлена с действительными коэффициентами, то  $\bar{z} = a - bi$  также корень этого многочлена.
4. Доказать, что комплексно сопряженные корни  $z = a + bi$  и  $\bar{z} = a - bi$  многочлена с действительными коэффициентами имеют одинаковую кратность.
5. Доказать, что любой целый корень уравнения с целыми коэффициентами является делителем его свободного члена.
6. Доказать, что если старший коэффициент уравнения с целыми коэффициентами равен 1, то все рациональные корни уравнения, если они существуют, – целые.
7. Доказать, что любой многочлен нечетной степени с действительными коэффициентами имеет хотя бы один действительный корень.
8. Доказать, что число  $-1$  тогда и только тогда является корнем многочлена, когда сумма коэффициентов многочлена, стоящих на четных местах, равна сумме коэффициентов, стоящих на нечетных местах.
9. Доказать, что сумма коэффициентов многочлена  $P(x)$  равна  $P(1)$ .
10. Доказать, что любой многочлен степени  $n \geq 1$  с действительными коэффициентами разлагается на линейные и квадратные множители с отрицательным дискриминантом.

11. Доказать, что любое кубическое уравнение  $a_3x^3 + a_2x^2 + a_1x + a_0 = 0$  можно свести к неполному уравнению вида  $x^3 + px + q = 0$ .
12. Доказать, что если для кубического уравнения  $x^3 + px + q = 0$  выражение  $-27q^2 - 4p^3$  положительно, то уравнение имеет 3 различных действительных корня.
13. Доказать, что если для кубического уравнения  $x^3 + px + q = 0$  выражение  $-27q^2 - 4p^3$  отрицательно, то уравнение имеет 1 действительный и 2 комплексно сопряженных корня.
14. Доказать, что если для кубического уравнения  $x^3 + px + q = 0$  выражение  $-27q^2 - 4p^3$  равно 0, то уравнение имеет 3 действительных корня, причем как минимум 2 из них совпадают.
15. Доказать, что если  $x_1, x_2, x_3$  – корни уравнения  $x^3 + a_2x^2 + a_1x + a_0 = 0$ , то  $x_1x_2x_3 = -a_0$ .
16. Доказать, что если  $x_1, x_2, x_3$  – корни уравнения  $x^3 + a_2x^2 + a_1x + a_0 = 0$ , то  $x_1x_2 + x_1x_3 + x_2x_3 = a_1$ .
17. Доказать, что если  $x_1, x_2, x_3$  – корни уравнения  $x^3 + a_2x^2 + a_1x + a_0 = 0$ , то  $x_1 + x_2 + x_3 = -a_2$ .
18. Доказать, что любое уравнение четвертой степени  $a_4x^4 + a_3x^3 + a_2x^2 + a_1x + a_0 = 0$  можно свести к неполному уравнению вида  $x^4 + px^2 + qx + r = 0$ .
19. Доказать, что число  $c$  тогда и только тогда является корнем многочлена  $P(x) = a_nx^n + a_{n-1}x^{n-1} + \dots + a_1x + a_0 = 0$ , когда  $P(x)$  делится на  $x - c$ .
20. Доказать, что  $(x_1 - x_2)^2(x_1 - x_3)^2(x_2 - x_3)^2 = -27q^2 - 4p^3$ , где  $x_1, x_2, x_3$  – корни уравнения  $x^3 + px + q = 0$ .



## Практические задания

### Задание 1

Выполнить указанные действия

Таблица 1

$n$	Задание	$n$	Задание
1.	$(1+4i) \cdot (2-3i) + \frac{2i(5+2i)}{1+2i}$	2.	$\frac{(2-6i) \cdot i}{-4+2i} - (1-i)^2$
3.	$\frac{5+i}{-1-2i} + \frac{2+3i}{i}$	4.	$\frac{(1-5i) \cdot (2+i)}{-1+i} - i^7(2-3i)$
5.	$(2-i)^2 + \frac{3+i}{1-2i}$	6.	$\frac{4-5i^3}{1+i} - 3i(5+2i)$
7.	$\frac{(1-2i)(1+i)}{3-i} - 2i(2-i)$	8.	$\frac{5+3i}{1+3i} - i(2+3i)$
9.	$(3-2i)^2 + \frac{9-8i}{4+2i} - i^5$	10.	$(-1+i) \cdot (3+2i) + \frac{i(6-4i)}{2+2i}$
11.	$5-3i + \frac{i^3(2-i)}{2+i}$	12.	$(4-i)^2 + \frac{1+8i^3}{4-2i}$
13.	$\frac{(1-2i)^2}{3+i} - 1+i$	14.	$\frac{5i+2i^6}{1-i} - 3+2i$
15.	$\frac{i^5(6-i)}{-2+i} - 2+3i$	16.	$\frac{(1+2i) \cdot (3-i)}{2-i} - i(5+3i)$
17.	$\frac{i}{-1+3i} - 1+4i^5$	18.	$\frac{(1-i) \cdot (5+i)}{-3+i} - i^3(1+i)$
19.	$\frac{(1+5i) \cdot (1-i)}{-1+2i} - 3i$	20.	$\frac{2+4i}{1-3i} - i^3(1+3i)$

**Задание 2**

Найти действительные решения уравнения

Таблица 2

$n$	Задание
1.	$(2-i)^2 x + (3-2i) y = -2i$
2.	$(5+2i) x + (1-3i) y = x + y + 8 - 5i$
3.	$(1+4i) x + (5-2i) y = (3+i)x - (2+3i)y + 3 + 7i$
4.	$(3+5i) x + (1-2i) y = (3-4i)i$
5.	$(5+i)^2 x - y = (1+i)x + 9i$
6.	$(2+i)ix + (4-i) y = y + 5i$
7.	$(5+i) x + (4-2i) y = ix - (2+i)y + 4 + i$
8.	$(2-i) x + (-5+2i) y = 1-i$
9.	$(1+3i) x + (2-i)^2 y = (-1-4i)i$
10.	$(3-i) x + (2+2i) y = (1+2i)x - iy$
11.	$(2+3i) x + (1-i) y = 1+9i$
12.	$(3-2i) x + (1+4i) y = 5+6i$
13.	$(6-i) x + (3+2i) y = x - 13i + 13$
14.	$(5-2i) x + (1+4i) y = 7+6i$
15.	$(-4+i) x + (3-2i) y = -7+3i$
16.	$\frac{2+i}{i} x - (4+2i) y = 3+4i$
17.	$(5+i) x - (1+i) y = -7-3i$
18.	$(2+i) x + (3-2i) y = (1-i)x + (4+i)y$
19.	$(7-i) x + (-2+4i) y = 11+x$
20.	$x + (-1+3i) y = 1-6i$

### Задание 3

Дать геометрическое описание множества точек комплексной плоскости, удовлетворяющих указанному условию<sup>1</sup>

Таблица 3

$n$	Задание	$n$	Задание
1.	$\operatorname{Im}(\bar{z}) > -1$	2.	$-1 \leq \operatorname{Re}(z) \leq 3$
3.	$0 < \arg z < \frac{\pi}{2}$	4.	$1 \leq  z - 3  \leq 3$
5.	$ z - i  < 5$	6.	$ z ^2 = (\operatorname{Re} z)^2 + 9$
7.	$\operatorname{Im}(z - 4i) > 0$	8.	$ z + 4i  < 4$
9.	$\operatorname{Re}(z \cdot i) > 3$	10.	$\operatorname{Im}(z^2) \leq 2$
11.	$\frac{\pi}{2} \leq \frac{\pi}{2} + \arg z \leq \pi$	12.	$\operatorname{Re}(z + 2) \geq 0$
13.	$\operatorname{Re}(z - 2) \leq 1$	14.	$\operatorname{Im}(z \cdot i) < -1$
15.	$2 < \operatorname{Im}(z) \leq 4$	16.	$\operatorname{Re}(z^2) = 0$
17.	$\frac{\pi}{4} < \arg z < \frac{\pi}{2}$	18.	$\operatorname{Im}(z + i) \leq 3$
19.	$ z + 1 - 2i  \leq 2$	20.	$ z  > (\operatorname{Re} z)^2 - 4$

<sup>1</sup> В вариантах 2, 6, 9, 12, 13, 16, 20 считать, что  $\operatorname{Re}(a + bi) = a$

В вариантах 1, 7, 10, 14, 15, 18 считать, что  $\operatorname{Im}(a + bi) = b$ .

**Задание 4.**

Представить комплексные числа  $z_1$  и  $z_2$  в тригонометрической и экспоненциальной формах и изобразить точками на комплексной плоскости

Таблица 4

$n$	Задание	$n$	Задание
1.	$z_1 = 2 + 2\sqrt{3}i,$ $z_2 = 3 - 3i$	2.	$z_1 = -4\sqrt{3} + 4i,$ $z_2 = 0,5 + 0,5i$
3.	$z_1 = -3 + 3i,$ $z_2 = \sqrt{3} + i$	4.	$z_1 = -7 + 7\sqrt{3}i,$ $z_2 = 3\sqrt{3} + 3i$
5.	$z_1 = -\sqrt{3} - i, z_2 = -5i$	6.	$z_1 = 4 - 4\sqrt{3}i, z_2 = 0,5i$
7.	$z_1 = -2 - 2i,$ $z_2 = 1 + i\sqrt{3}$	8.	$z_1 = 6\sqrt{3} + 6i,$ $z_2 = -\sqrt{2} - \sqrt{2}i$
9.	$z_1 = -3 - 3\sqrt{3}i, z_2 = -2i$	10.	$z_1 = -2 + 2\sqrt{3}i, z_2 = -0,5i$
11.	$z_1 = -\frac{1}{4} + \frac{\sqrt{3}}{4}i,$ $z_2 = 2\sqrt{3} + 2i$	12.	$z_1 = 4\sqrt{3} + 4i,$ $z_2 = \sqrt{2} - \sqrt{2}i$
13.	$z_1 = 1 - \sqrt{3}i,$ $z_2 = 4 + 4i$	14.	$z_1 = 5 + 5\sqrt{3}i,$ $z_2 = -2\sqrt{3} + 2i$
15.	$z_1 = 2 - 2\sqrt{3}i,$ $z_2 = \sqrt{2} + \sqrt{2}i$	16.	$z_1 = -2\sqrt{3} + 2i,$ $z_2 = 4i$
17.	$z_1 = -2 - 2\sqrt{3}i,$ $z_2 = 6\sqrt{3} + 6i$	18.	$z_1 = \sqrt{3} - i,$ $z_2 = 4 + 4i$
19.	$z_1 = -3 - 3i,$ $z_2 = 4\sqrt{3} + 4i$	20.	$z_1 = -3 + 3\sqrt{3}i,$ $z_2 = 3\sqrt{3} - 3i$

### Задание 5

Для комплексных чисел  $z_1$  и  $z_2$ , записанных в тригонометрической форме, из задания 4, выполнить указанные действия.

Таблица 5

$n$	Задание	$n$	Задание
1.	$z_1^5 \cdot z_2, \frac{z_1}{z_2}, \sqrt[4]{z_2}$	2.	$z_1 \cdot z_2, \frac{z_1^5}{z_2}, \sqrt[3]{z_2}$
3.	$z_1 \cdot z_2^5, \frac{z_1}{z_2}, \sqrt[3]{z_2^5}$	4.	$z_1 \cdot z_2, \frac{z_1}{z_2^5}, \sqrt[3]{z_1}$
5.	$z_1^7 \cdot z_2, \frac{z_1}{z_2}, \sqrt[4]{z_2}$	6.	$z_1 \cdot z_2, \frac{z_1^4}{z_2}, \sqrt[4]{z_1}$
7.	$z_1 \cdot z_2, \frac{z_1^8}{z_2}, \sqrt[4]{z_2}$	8.	$z_1^5 \cdot z_2, \frac{z_1}{z_2}, \sqrt[4]{z_1^5}$
9.	$z_1 \cdot z_2, \frac{z_1^3}{z_2}, \sqrt[5]{z_2}$	10.	$z_1 \cdot z_2, \frac{z_1}{z_2}, \sqrt[4]{z_1^3}$
11.	$z_1^5 \cdot z_2, \frac{z_1}{z_2}, \sqrt[3]{z_2}$	12.	$z_1 \cdot z_2, \frac{z_1}{z_2^3}, \sqrt[5]{z_1}$
13.	$z_1 \cdot z_2^6, \frac{z_1}{z_2}, \sqrt[4]{z_1}$	14.	$z_1 \cdot z_2^7, \frac{z_1}{z_2}, \sqrt[3]{z_2}$
15.	$z_1 \cdot z_2, \frac{z_1^5}{z_2}, \sqrt[4]{z_1^5}$	16.	$z_1^3 \cdot z_2, \frac{z_1}{z_2}, \sqrt[4]{z_1^3}$
17.	$z_1 \cdot z_2^5, \frac{z_1}{z_2}, \sqrt[3]{z_1}$	18.	$z_1 \cdot z_2, \frac{z_1}{z_2^7}, \sqrt[4]{z_1}$
19.	$z_1^5 \cdot z_2, \frac{z_1}{z_2}, \sqrt[3]{z_2}$	20.	$z_1 \cdot z_2, z_1 : z_2^3, \sqrt[4]{z_2^3}$

### Задание 6

Решить задачу, используя формулу Муавра (в вариантах 1–10) или формулы Эйлера (в вариантах 11–20)

Таблица 6

$n$	Задание
1.	Выразить $\cos 3\varphi$ через $\cos \varphi$
2.	Выразить $\cos 4\varphi$ через $\cos \varphi$ и $\sin \varphi$
3.	Выразить $\cos 5\varphi$ через $\cos \varphi$ и $\sin \varphi$
4.	Выразить $\sin 3\varphi$ через $\sin \varphi$
5.	Выразить $\sin 4\varphi$ через $\cos \varphi$ и $\sin \varphi$
6.	Выразить $\sin 5\varphi$ через $\cos \varphi$ и $\sin \varphi$
7.	Выразить $tg3\varphi$ через $tg\varphi$
8.	Выразить $ctg3\varphi$ через $ctg\varphi$
9.	Выразить $tg5\varphi$ через $tg\varphi$
10.	Выразить $ctg4\varphi$ через $ctg\varphi$
11.	Выразить $\cos^3 \varphi$ через косинусы кратных дуг
12.	Выразить $\sin^3 \varphi$ через синусы кратных дуг
13.	Выразить $\cos^4 \varphi$ через косинусы и синусы кратных дуг
14.	Выразить $\sin^4 \varphi$ через косинусы и синусы кратных дуг
15.	Вычислить сумму $\cos \varphi + \cos 2\varphi + \cos 3\varphi + \dots + \cos n\varphi$
16.	Вычислить сумму $\cos 2\varphi + \cos 4\varphi + \dots + \cos 2n\varphi$
17.	Вычислить сумму $\cos \varphi + \cos 3\varphi + \cos 5\varphi + \dots + \cos(2n-1)\varphi$
18.	Вычислить сумму $\sin \varphi + \sin 2\varphi + \sin 3\varphi + \dots + \sin n\varphi$
19.	Вычислить сумму $\sin 2\varphi + \sin 4\varphi + \dots + \sin 2n\varphi$
20.	Вычислить сумму $\sin \varphi + \sin 3\varphi + \sin 5\varphi + \dots + \sin(2n-1)\varphi$

### Задание 7

Найти корни многочлена второй степени (с комплексными коэффициентами) на множестве комплексных чисел и разложить его на множители.

Таблица 7

$n$	Задание
1.	$Q(x) = x^2 - 2x - 4ix + 6 + 4i$
2.	$Q(x) = x^2 + x - 6ix - 11 - 3i$
3.	$Q(x) = ix^2 + 2x - 5ix + 5i - 5$
4.	$Q(x) = x^2 - 4x + 2ix + 7 - 4i$
5.	$Q(x) = x^2 - 2x + 2ix + 9 - 2i$
6.	$Q(x) = x^2 - 6x - ix + 15 + 3i$
7.	$Q(x) = ix^2 - 4ix + 4x - i - 8$
8.	$Q(x) = x^2 - 6x - ix + 11 + 3i$
9.	$Q(x) = x^2 - 7x + 2ix + 9 - 7i$
10.	$Q(x) = x^2 - 4x + 4ix + 9 - 8i$
11.	$Q(x) = x^2 + 2x + 2ix - 4 + 2i$
12.	$Q(x) = x^2 - 4x - ix + 10 + 2i$
13.	$Q(x) = ix^2 + 2x + 2ix + 2 - 4i$
14.	$Q(x) = x^2 - 4x - 4ix + 1 + 8i$
15.	$Q(x) = ix^2 + 4x + 2ix + 4 - 7i$
16.	$Q(x) = x^2 - 2x - 2ix + 4 + 2i$
17.	$Q(x) = x^2 - 4x - 2ix + 7 + 4i$
18.	$Q(x) = x^2 + x + 4ix - 10 + 2i$
19.	$Q(x) = x^2 - 5x - 4ix + 2 + 10i$
20.	$Q(x) = x^2 - x + 6ix - 11 - 3i$

### Задание 8

Найти корни многочлена четвертой степени (с действительными коэффициентами) на множестве комплексных чисел и разложить его на множители.

Таблица 8

$n$	Задание
1.	$P(x) = 2x^4 + 9x^3 + 13x^2 + x - 5$
2.	$P(x) = 3x^4 - 4x^3 + x^2 + 6x - 2$
3.	$P(x) = 2x^4 + 5x^3 + 15x^2 - 35x + 13$
4.	$P(x) = 3x^4 + 2x^3 - x^2 - 6x + 2$
5.	$P(x) = 5x^4 - 6x^3 + 6x^2 - 6x + 1$
6.	$P(x) = 2x^4 + x^3 - x^2 - 4x + 2$
7.	$P(x) = 2x^4 + x^3 + 5x^2 - 13x + 5$
8.	$P(x) = -3x^4 - x^3 + 6x^2 + 14x + 4$
9.	$P(x) = 2x^4 + 9x^3 + 9x^2 - 33x + 13$
10.	$P(x) = 5x^4 + 4x^3 - x^2 - 10x + 2$
11.	$P(x) = -2x^4 - 5x^3 + x^2 + 11x - 5$
12.	$P(x) = 3x^4 + 2x^3 + 8x^2 - 18x + 5$
13.	$P(x) = 2x^4 + 11x^3 + 19x^2 - 19x - 13$
14.	$P(x) = 3x^4 - 10x^3 + 15x^2 - 10x + 2$
15.	$P(x) = 2x^4 + 11x^3 + 23x^2 + 19x + 5$
16.	$P(x) = -3x^4 + 4x^3 - 4x^2 + 4x - 1$
17.	$P(x) = 5x^4 + 4x^3 + 4x^2 + 4x - 1$
18.	$P(x) = 3x^4 + 8x^3 + 18x^2 + 8x - 5$
19.	$P(x) = 2x^4 + 19x^3 + 41x^2 - 36x - 26$
20.	$P(x) = 3x^4 + 4x^3 + 25x^2 - 22x - 10$



### Задание 9

Составить многочлен по заданным условиям

Таблица 9

$n$	Задание								
1.	Многочлен с действительными коэффициентами третьей степени, если $x_1 = 2,5$ и $x_2 = -3 + i$ – два из его корней								
2.	Многочлен с действительными коэффициентами четвертой степени, если $x_1 = 3$ – корень многочлена кратности 2 и $x_2 = 2 + i$ – один из других корней многочлена								
3.	Многочлен, если все его корни и соответствующие их кратности приведены в таблице: <table border="1" style="margin-left: auto; margin-right: auto;"> <tbody> <tr> <td>корень</td> <td>1</td> <td>-2</td> <td><math>-1 + i</math></td> </tr> <tr> <td>кратность</td> <td>2</td> <td>1</td> <td>1</td> </tr> </tbody> </table>	корень	1	-2	$-1 + i$	кратность	2	1	1
корень	1	-2	$-1 + i$						
кратность	2	1	1						
4.	Многочлен с действительными коэффициентами четвертой степени, если $x_1 = i$ – корень многочлена кратности 2								
5.	Многочлен с действительными коэффициентами третьей степени, если $x_1 = -4$ и $x_2 = 1 + 2i$ – два из его корней								
6.	Многочлен, если все его корни и соответствующие их кратности приведены в таблице: <table border="1" style="margin-left: auto; margin-right: auto;"> <tbody> <tr> <td>корень</td> <td>3</td> <td>-1</td> <td><math>i</math></td> </tr> <tr> <td>кратность</td> <td>2</td> <td>2</td> <td>1</td> </tr> </tbody> </table>	корень	3	-1	$i$	кратность	2	2	1
корень	3	-1	$i$						
кратность	2	2	1						
7.	Многочлен с действительными коэффициентами четвертой степени, если $x_1 = 1 - 2i$ и $x_2 = 2 - i$ – два из его корней								
8.	Многочлен с действительными коэффициентами четвертой степени, если $x_1 = 1 + 2i$ – корень многочлена кратности 2								
9.	Многочлен с действительными коэффициентами третьей степени, если $x_1 = -0,5$ и $x_2 = 6 - i$ – два из его корней								
10.	Многочлен, если все его корни и соответствующие их кратности приведены в таблице: <table border="1" style="margin-left: auto; margin-right: auto;"> <tbody> <tr> <td>корень</td> <td>1</td> <td><math>1 + i</math></td> <td><math>1 - i</math></td> </tr> <tr> <td>кратность</td> <td>3</td> <td>1</td> <td>1</td> </tr> </tbody> </table>	корень	1	$1 + i$	$1 - i$	кратность	3	1	1
корень	1	$1 + i$	$1 - i$						
кратность	3	1	1						

Продолжение таблицы 9

$n$	Задание								
11.	Многочлен с действительными коэффициентами четвертой степени, если $x_1 = -2$ – корень многочлена кратности 2 и $x_2 = 4i$ – один из других корней многочлена								
12.	Многочлен, если все его корни и соответствующие их кратности приведены в таблице: <table border="1" style="margin-left: auto; margin-right: auto;"> <tr> <td>корень</td> <td>-1</td> <td><math>3+i</math></td> <td><math>3-i</math></td> </tr> <tr> <td>кратность</td> <td>2</td> <td>1</td> <td>1</td> </tr> </table>	корень	-1	$3+i$	$3-i$	кратность	2	1	1
корень	-1	$3+i$	$3-i$						
кратность	2	1	1						
13.	Многочлен с действительными коэффициентами четвертой степени, если $x_1 = -1$ – корень многочлена кратности 2 и $x_2 = 1-2i$ – один из других корней многочлена								
14.	Многочлен с действительными коэффициентами четвертой степени, если $x_1 = 2-i$ – корень многочлена кратности 2								
15.	Многочлен, если все его корни и соответствующие их кратности приведены в таблице: <table border="1" style="margin-left: auto; margin-right: auto;"> <tr> <td>корень</td> <td>5</td> <td>-1</td> <td><math>2i</math></td> </tr> <tr> <td>кратность</td> <td>1</td> <td>2</td> <td>1</td> </tr> </table>	корень	5	-1	$2i$	кратность	1	2	1
корень	5	-1	$2i$						
кратность	1	2	1						
16.	Многочлен с действительными коэффициентами четвертой степени, если $x_1 = i$ и $x_2 = 2+i$ – два из его корней								
17.	Многочлен с действительными коэффициентами четвертой степени, если $x_1 = -2+i$ – корень многочлена кратности 2								
18.	Многочлен с действительными коэффициентами третьей степени, если $x_1 = -0,5$ и $x_2 = -3+2i$ – два из его корней								
19.	Многочлен с действительными коэффициентами третьей степени, если $x_1 = -1,5$ и $x_2 = 4+i$ – два из его корней								
20.	Многочлен, если все его корни и соответствующие их кратности приведены в таблице: <table border="1" style="margin-left: auto; margin-right: auto;"> <tr> <td>корень</td> <td>-4</td> <td><math>i</math></td> </tr> <tr> <td>кратность</td> <td>1</td> <td>3</td> </tr> </table>	корень	-4	$i$	кратность	1	3		
корень	-4	$i$							
кратность	1	3							

### Задание 10

Решить уравнение третьей степени на множестве комплексных чисел, используя формулы Кардано.

Таблица 10

$n$	Задание	$n$	Задание
1.	$x^3 - 3x^2 - 6x + 20 = 0$	2.	$x^3 + 6x - 2 = 0$
3.	$x^3 + 3x - 2i = 0$	4.	$x^3 + 18x + 15 = 0$
5.	$x^3 - 6x - 2 = 0$	6.	$x^3 - 6ix + 4(1 - i) = 0$
7.	$x^3 + 3x^2 - 15x - 59 = 0$	8.	$x^3 - 3x^2 - 6x - 4 = 0$
9.	$x^3 + 3x^2 - 6x + 4 = 0$	10.	$x^3 + 9x^2 + 21x + 5 = 0$
11.	$x^3 + 3x^2 - 3x + 11 = 0$	12.	$x^3 + 3x + 2i = 0$
13.	$x^3 + 6ix + 4 - 4i = 0$	14.	$x^3 - 3x^2 - 15x + 59 = 0$
15.	$x^3 - 9x^2 + 21x - 5 = 0$	16.	$x^3 - 3x^2 - 3x + 11 = 0$
17.	$x^3 + 6x + 2 = 0$	18.	$x^3 + 3x^2 - 6x - 20 = 0$
19.	$x^3 - 3x^2 - 6x + 4 = 0$	20.	$x^3 + 3x^2 + 3x + 11 = 0$

## Примеры выполнения заданий

### Пример 1

Найти  $z_1 + z_2$ ,  $z_1 \cdot z_2$ ,  $z_1^2$ ,  $\frac{z_1}{z_2}$ , если  $z_1 = 4 - 5i$ ,  $z_2 = 2 + 3i$ .

Решение:

Сложение и умножение комплексных чисел, записанных в алгебраической форме, производят подобно сложению и умножению многочленов.

$$z_1 + z_2 = 4 - 5i + 2 + 3i = (4 + 2) + (-5 + 3)i = 6 - 2i$$

$$z_1 \cdot z_2 = (4 - 5i) \cdot (2 + 3i) = 8 + 12i - 10i - 15i^2 = 8 + 2i - 15(-1) = 23 + 2i$$

$$z_1^2 = (4 - 5i)^2 = 16 - 40i + 25i^2 = 16 - 40i - 25 = -9 - 40i$$

При делении одного комплексного числа на другое, делимое и делитель умножают на комплексное число, сопряженное делителю.

$$\begin{aligned} \frac{z_1}{z_2} &= \frac{4 - 5i}{2 + 3i} = \frac{(4 - 5i) \cdot (2 - 3i)}{(2 + 3i) \cdot (2 - 3i)} = \frac{8 - 10i - 12i + 15i^2}{2^2 - (3i)^2} = \frac{8 - 22i - 15}{4 + 9} = \\ &= \frac{-7 - 22i}{13} = -\frac{7}{13} - \frac{22}{13}i. \end{aligned}$$

### Пример 2

Найти  $i^9$ ,  $i^{27}$ .

Решение:

Для любых  $q, r \in \mathbb{N}$  имеет место равенство

$$i^{4q+r} = i^r$$

Следовательно,

$$i^9 = i^{4 \cdot 2 + 1} = i^1 = i,$$

$$i^{27} = i^{6 \cdot 4 + 3} = i^3 = i^2 \cdot i = -1 \cdot i = -i.$$

### Пример 3

Найти действительные решения уравнения

$$(-2 + 5i)x + 2i = (1 - 2i)y + 3ix - 3.$$

Решение:

Представим выражения в левой и правой части уравнения в виде  $a + bi$ .

$$(-2 + 5i)x + 2i = (1 - 2i)y + 3ix - 3$$

$$-2x + 5ix + 2i = y - 2iy + 3ix - 3$$

$$-2x + (5x + 2)i = y - 3 + (-2y + 3x)i$$

Комплексные числа  $z_1 = a + bi$  и  $z_2 = c + di$  равны, если равны их действительные части и мнимые части, то есть

$$z_1 = z_2 \Leftrightarrow a = c, b = d.$$

Следовательно, имеем систему

$$\begin{cases} -2x = y - 3, \\ 5x + 2 = -2y + 3x; \end{cases} \Leftrightarrow \begin{cases} y = -2x + 3, \\ 5x + 2 = -2(-2x + 3) + 3x; \end{cases} \Leftrightarrow$$

$$\Leftrightarrow \begin{cases} y = -2x + 3, \\ 5x + 2 = 4x - 6 + 3x; \end{cases} \Leftrightarrow \begin{cases} y = -2x + 3, \\ -2x = -8; \end{cases} \Leftrightarrow$$

$$\Leftrightarrow \begin{cases} y = -2x + 3, \\ -2x = -8; \end{cases} \Leftrightarrow \begin{cases} y = -5, \\ x = 4. \end{cases}$$

Итак,  $x = 4$ ,  $y = 5$ .

### Пример 4

Дать геометрическое описание множества точек комплексной плоскости, удовлетворяющих условию  $|\operatorname{Re}(z + 3 - i)| < 1$ .

Решение:

$\operatorname{Re}(z + 3 - i)$  – действительная часть числа  $z + 3 - i$ .

$$z + 3 - i = a + bi + 3 - i = (a + 3) + (b - 1)i$$

$$\operatorname{Re}(z + 3 - i) = a + 3$$

Итак,  $|a + 3| < 1$

$$|a + 3| < 1 \Leftrightarrow -1 < a + 3 < 1 \Leftrightarrow -4 < a < -2$$

Изображением множества точек  $M(a, b)$  на комплексной плоскости, удовлетворяющих условию  $-4 < a < -2$ , служит бесконечная полоса, заключенная между прямыми  $a = -4$  и  $a = -2$ , не включая точки этих прямых. (Рис. 1)

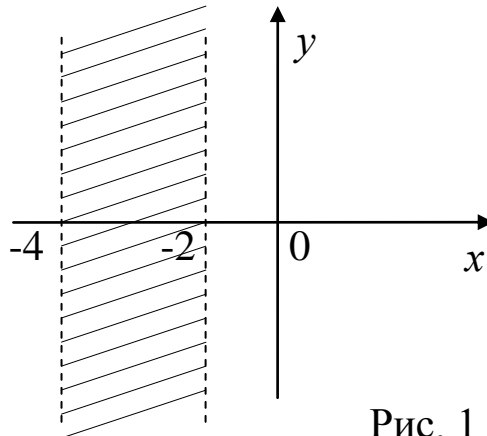


Рис. 1

### Пример 5

Представить комплексные числа  $z_1 = 1 + i$  и  $z_2 = 1 - \sqrt{3}i$  в тригонометрической и экспоненциальной формах.

Решение:

Любое комплексное число можно представить в виде:

$$z = a + bi = \sqrt{a^2 + b^2} \left( \frac{a}{\sqrt{a^2 + b^2}} + \frac{bi}{\sqrt{a^2 + b^2}} \right) = r(\cos \varphi + i \sin \varphi),$$

где  $r = \sqrt{a^2 + b^2}$  – модуль комплексного числа  $z$  (обозначают  $|z|$ ),  $\varphi$  – аргумент комплексного числа  $z$  (обозначают  $\arg z$ ), обычно выбирают  $\varphi \in [0, 2\pi)$ , реже берут  $\varphi \in (-\pi, \pi]$ .  $\varphi$  находят из условий:

$$\cos \varphi = \frac{a}{r}, \quad \sin \varphi = \frac{b}{r}.$$

Символом  $e^{i\varphi}$  обозначают комплексное число  $\cos \varphi + i \sin \varphi$ . Поэтому любое комплексное число можно представить в виде:

$$z = a + bi = r e^{i\varphi}$$

Для представления комплексного числа  $z_1 = 1 + i$  в тригонометрической и экспоненциальной формах, найдем модуль и аргумент этого числа.

$$a_1 = 1, b_1 = 1,$$

$$r_1 = \sqrt{a_1^2 + b_1^2} = \sqrt{1+1} = \sqrt{2},$$

$$\varphi_1 : \begin{cases} \cos \varphi_1 = \frac{a_1}{r_1} = \frac{1}{\sqrt{2}} = \frac{\sqrt{2}}{2}, \\ \sin \varphi_1 = \frac{b_1}{r_1} = \frac{1}{\sqrt{2}} = \frac{\sqrt{2}}{2} \end{cases} \Rightarrow \varphi_1 = \frac{\pi}{4}. \text{ (Рис. 2)}$$

Следовательно,

$$z_1 = \sqrt{2} \left( \cos \frac{\pi}{4} + i \sin \frac{\pi}{4} \right) - \text{тригонометрическая форма записи } z_1.$$

$$z_1 = \sqrt{2} e^{i\frac{\pi}{4}} - \text{экспоненциальная форма записи } z_1.$$

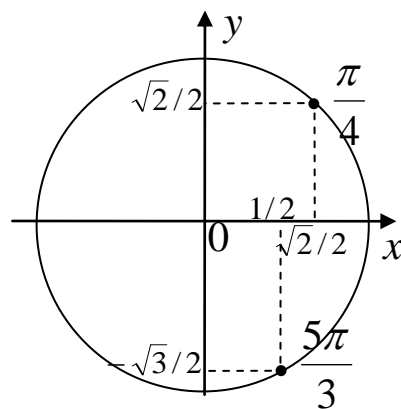


Рис. 2

Представим  $z_2 = 1 - \sqrt{3}i$  в тригонометрической и экспоненциальной формах.

$$a_2 = 1, b_2 = -\sqrt{3},$$

$$r_2 = \sqrt{a_2^2 + b_2^2} = \sqrt{1 + (-\sqrt{3})^2} = \sqrt{4} = 2,$$

$$\varphi_2 : \begin{cases} \cos \varphi_2 = \frac{a_2}{r_2} = \frac{1}{2}, \\ \sin \varphi_2 = \frac{b_2}{r_2} = \frac{-\sqrt{3}}{2} \end{cases} \Rightarrow \varphi_2 = \frac{5\pi}{3}. \text{ (Рис. 2)}$$

Следовательно,

$$z_2 = 2 \left( \cos \frac{5\pi}{3} + i \sin \frac{5\pi}{3} \right) - \text{тригонометрическая форма записи } z_2.$$

$$z_2 = 2 e^{i \frac{5\pi}{3}} - \text{экспоненциальная форма записи } z_2.$$

### Пример 6

Для комплексных чисел  $z_1 = 1 + i$  и  $z_2 = 1 - \sqrt{3}i$ , записанных в тригонометрической форме, выполнить действия:

1)  $z_1 \cdot z_2$ , 2)  $\frac{z_1}{z_2}$ , 3)  $z_2^5$ , 4)  $\sqrt[3]{z_2}$ .

Решение:

В примере 4 была получена тригонометрическая форма каждого из данных комплексных чисел:

$$z_1 = \sqrt{2} \left( \cos \frac{\pi}{4} + i \sin \frac{\pi}{4} \right), \quad z_2 = 2 \left( \cos \frac{5\pi}{3} + i \sin \frac{5\pi}{3} \right)$$

1) Чтобы перемножить два комплексных числа, записанных в тригонометрической форме, нужно перемножить их модули, а аргументы сложить:

$$\boxed{z_1 \cdot z_2 = r_1 (\cos \varphi_1 + i \sin \varphi_1) \cdot r_2 (\cos \varphi_2 + i \sin \varphi_2) = r_1 r_2 (\cos(\varphi_1 + \varphi_2) + i \sin(\varphi_1 + \varphi_2))}$$

$$z_1 \cdot z_2 = 2\sqrt{2} \left( \cos \left( \frac{\pi}{4} + \frac{5\pi}{3} \right) + i \sin \left( \frac{\pi}{4} + \frac{5\pi}{3} \right) \right) = 2\sqrt{2} \left( \cos \frac{23\pi}{12} + i \sin \frac{23\pi}{12} \right)$$



2) Чтобы найти частное от деления двух комплексных чисел, нужно найти частное от деления их модулей и разность их аргументов:

$$\frac{z_1}{z_2} = \frac{r_1(\cos \varphi_1 + i \sin \varphi_1)}{r_2(\cos \varphi_2 + i \sin \varphi_2)} = \frac{r_1}{r_2} (\cos(\varphi_1 - \varphi_2) + i \sin(\varphi_1 - \varphi_2))$$

$$\begin{aligned} \frac{z_1}{z_2} &= \frac{\sqrt{2}}{2} \left( \cos\left(\frac{\pi}{4} - \frac{5\pi}{3}\right) + i \sin\left(\frac{\pi}{4} - \frac{5\pi}{3}\right) \right) = \frac{\sqrt{2}}{2} \left( \cos\left(-\frac{17\pi}{12}\right) + i \sin\left(-\frac{17\pi}{12}\right) \right) = \\ &= \frac{\sqrt{2}}{2} \left( \cos\left(-\frac{17\pi}{12} + 2\pi\right) + i \sin\left(-\frac{17\pi}{12} + 2\pi\right) \right) = \frac{\sqrt{2}}{2} \left( \cos\left(\frac{7\pi}{12}\right) + i \sin\left(\frac{7\pi}{12}\right) \right). \end{aligned}$$

В рассмотренном примере к полученному аргументу добавлено выражение  $2\pi$  (период тригонометрических функций  $\rho = \cos \varphi$  и  $\rho = \sin \varphi$ ) для того, чтобы получить значение аргумента из промежутка  $[0, 2\pi)$ .

3) Возведение комплексного числа в натуральную степень производится по формуле Муавра:

$$z^n = r^n (\cos n\varphi + i \sin n\varphi)$$

$$\begin{aligned} z_2^5 &= 2^5 \left( \cos\left(5 \cdot \frac{5\pi}{3}\right) + i \sin\left(5 \cdot \frac{5\pi}{3}\right) \right) = 32 \left( \cos \frac{25\pi}{3} + i \sin \frac{25\pi}{3} \right) = \\ &= 32 \left( \cos\left(8\pi + \frac{\pi}{3}\right) + i \sin\left(8\pi + \frac{\pi}{3}\right) \right) = 32 \left( \cos \frac{\pi}{3} + i \sin \frac{\pi}{3} \right). \end{aligned}$$

4) Существует ровно  $n$  корней  $n$ -ой степени из комплексного числа:

$$\sqrt[n]{z} = \sqrt[n]{r(\cos \varphi + i \sin \varphi)} = \sqrt[n]{r} \left( \cos \frac{\varphi + 2\pi k}{n} + i \sin \frac{\varphi + 2\pi k}{n} \right),$$

где  $k = 0, 1, \dots, n-1$ .

В рассматриваемом примере

$$\sqrt[3]{z} = \sqrt[3]{2} \left( \cos \frac{\frac{5\pi}{3} + 2\pi k}{3} + i \sin \frac{\frac{5\pi}{3} + 2\pi k}{3} \right), \text{ где } k = 0, 1, 2$$

$$\text{при } k=0 \quad \sqrt[3]{2} \left( \cos \frac{5\pi/3}{3} + i \sin \frac{5\pi/3}{3} \right) = \sqrt[3]{2} \left( \cos \frac{5\pi}{9} + i \sin \frac{5\pi}{9} \right),$$

$$\text{при } k=1 \quad \sqrt[3]{2} \left( \cos \frac{\frac{5\pi}{3} + 2\pi}{3} + i \sin \frac{\frac{5\pi}{3} + 2\pi}{3} \right) = \sqrt[3]{2} \left( \cos \frac{11\pi}{9} + i \sin \frac{11\pi}{9} \right),$$

$$\text{при } k=2 \quad \sqrt[3]{2} \left( \cos \frac{\frac{5\pi}{3} + 4\pi}{3} + i \sin \frac{\frac{5\pi}{3} + 4\pi}{3} \right) = \sqrt[3]{2} \left( \cos \frac{17\pi}{9} + i \sin \frac{17\pi}{9} \right).$$

Заметим, что аргументы получившихся комплексных чисел разбивают единичную окружность на три равные дуги. (Рис. 3).

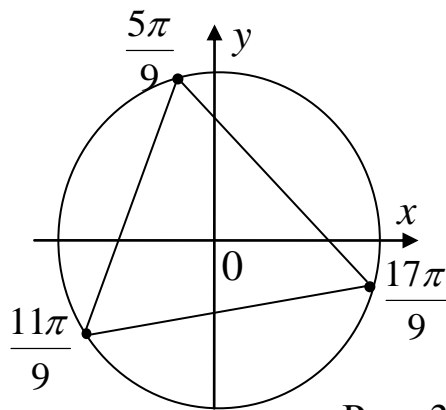


Рис. 3

### Пример 7

Найти корни многочлена второй степени (с комплексными коэффициентами) на множестве комплексных чисел и разложить его на множители.

$$Q(x) = ix^2 + 2ix + x + 13i + 1$$

Решение:

Так как многочлен второй степени имеет в множестве комплексных чисел ровно 2 корня, то его разложение  $Q(x) = a_2x^2 + a_1x + a_0$  на множители имеет вид:

$$Q(x) = a_2(x - x_1)(x - x_2).$$

Найдем корни многочлена, решив соответствующее квадратное уравнение.

$$ix^2 + 2ix + x + 13i + 1 = 0$$

$$ix^2 + (2i + 1)x + (13i + 1) = 0$$

$$D = (2i + 1)^2 - 4i(13i + 1) = 4i^2 + 4i + 1 - 52i^2 - 4i = -4 + 1 + 52 = 49$$

$$x_1 = \frac{-(2i + 1) + 7}{2i} = \frac{-2i + 6}{2i} = -1 - 3i,$$

$$x_2 = \frac{-(2i + 1) - 7}{2i} = \frac{-2i - 8}{2i} = -1 + 4i$$

$$Q(x) = i(x - (-1 - 3i))(x - (-1 + 4i)) = i(x + 1 + 3i)(x + 1 - 4i)$$

### Пример 8

Найти корни многочлена  $P(x) = 3x^4 - 4x^3 + x^2 + 6x - 2$  на множестве комплексных чисел, разложить  $P(x)$  на множители.

Решение:

Если многочлен  $P(x) = a_nx^n + a_{n-1}x^{n-1} + \dots + a_1x + a_0 = 0$  с целыми коэффициентами имеет рациональный корень  $\frac{p}{q}$ , то число  $p$  есть делитель свободного члена  $a_0$ , а число  $q$  есть делитель старшего коэффициента  $a_n$ .

Найдем рациональные корни данного многочлена (если они существуют). Для этого выпишем все делители свободного члена и старшего коэффициента.

Делители  $a_0 = -2: \pm 1, \pm 2$ . Делители  $a_n = 3: \pm 1, \pm 3$ .

Следовательно, возможные рациональные корни многочлена:

$$\pm 1, \pm \frac{1}{3}, \pm 2, \pm \frac{2}{3}.$$

Проверить, является ли число корнем многочлена, можно непосредственной подстановкой, но удобнее это сделать, воспользовавшись схемой Горнера.

Если требуется разделить многочлен степени  $n$   $P(x) = a_n x^n + a_{n-1} x^{n-1} + \dots + a_1 x + a_0 = 0$  на многочлен первой степени  $(x - x_0)$ , то получим многочлен степени  $n-1$   $Q(x) = b_{n-1} x^{n-1} + b_{n-2} x^{n-2} + \dots + b_1 x + b_0$  и остаток  $R$ . Тогда имеет место равенство  $P(x) = (x - x_0)Q(x) + R$ .

Схема Горнера позволяет найти коэффициенты многочлена  $Q(x)$  и остаток  $R$ . В случае, если  $x_0$  – корень многочлена  $P(x)$ , остаток  $R=0$ . Она представлена в следующей таблице:

	$a_n$	$a_{n-1}$	$a_{n-2}$	$\dots$	$a_0$
$x_0$	$b_{n-1}$	$b_{n-2} = a_{n-1} + x_0 \cdot b_{n-1}$	$b_{n-3} = a_{n-2} + x_0 \cdot b_{n-2}$	$\dots$	$R$

В первой строке таблицы записывают коэффициенты многочлена  $P(x)$ . Во второй строке получают коэффициенты многочлена  $Q(x)$  и остаток  $R$ .

Старший коэффициент частного ( $b_{n-1}$ ) равен старшему коэффициенту делимого ( $a_n$ ). Следующая пустая клетка заполняется так: берут стоящее над ней число первой строки и прибавляют к нему произведение числа  $x_0$  на предыдущий элемент второй строки. Повторяют процедуру до тех пор, пока не дойдут до последнего элемента второй строки, он и равен  $R$ .

Составим схему Горнера для рассматриваемого примера и проверим, какой из возможных рациональных корней действительно является корнем многочлена  $P(x) = 3x^4 - 4x^3 + x^2 + 6x - 2$ .

	3	-4	1	6	-2
$x_0$	3	$-4 + 1 \cdot 3 =$ $= -1$	$1 + 1 \cdot (-1) =$ $= 0$	$6 + 1 \cdot 0 =$ $= 6$	$-2 + 1 \cdot 6 =$ $= 4$
$x_0 = -1$	3	$-4 + (-3) =$ $= -7$	$1 + 7 =$ $= 8$	$6 + (-8) =$ $= -2$	$-2 + 2 =$ $= 0$

Как видно из таблицы, число  $x_0 = 1$  не является корнем многочлена, так как остаток  $R \neq 0$ . (Кстати, он равен значению многочлена в точке  $x_0 = 1$ , то есть  $R = P(1)$ ).

Число  $x_0 = -1$  является корнем многочлена, так как  $R = 0$ .

Следовательно, имеет место равенство

$$P(x) = 3x^4 - 4x^3 + x^2 + 6x - 2 = (x+1)(3x^3 - 7x^2 + 8x - 2).$$

Остальные рациональные корни можем искать, используя многочлен  $Q(x) = 3x^3 - 7x^2 + 8x - 2$ .

Так как число  $x_0 = 1$  не является корнем исходного многочлена, то оно не может быть и корнем многочлена  $Q(x)$ .

Проверим остальные возможные корни. При этом число  $x_0 = 1$  может еще раз оказаться корнем (тогда его кратность в исходном многочлене будет  $\neq 1$ ).

	3	-7	8	-2
$x_0 = -1$	3	-10	18	-20
$x_0 = \frac{1}{3}$	3	-6	6	0

Число  $x_0 = \frac{1}{3}$  является корнем, поэтому имеют место равенства:

$$Q(x) = 3x^3 - 7x^2 + 8x - 2 = (x - 1/3)(3x^2 - 6x + 6),$$

$$P(x) = (x+1)(x-1/3)(3x^2 - 6x + 6).$$

Далее рассмотрим многочлен  $3x^2 - 6x + 6$ . Можем и дальше, использовать схему Горнера, но так как заранее неизвестно, есть ли еще рациональные корни и так как полученный многочлен является многочленом второй степени, можем решить обычное квадратное уравнение.

$$3x^2 - 6x + 6 = 0$$

$$x^2 - 2x + 2 = 0$$

$$D = (-2)^2 - 4 \cdot 2 = -4$$

$$x = \frac{2 \pm 2i}{2} = 1 \pm i$$

Итак, исходный многочлен имеет 4 корня:  $-1, \frac{1}{3}, 1+i, 1-i$ .

Разложение многочлена на множители имеет вид:

$$P(x) = 3x^4 - 4x^3 + x^2 + 6x - 2 = 3(x+1)(x-1)(x-(1+i))(x-(1-i)).$$

### Пример 9

Составить многочлен с действительными коэффициентами четвертой степени, если  $x = -1 + 2i$  – корень многочлена кратности 2.

Решение:

Так как по условию многочлен имеет действительные коэффициенты, то его комплексные корни являются сопряженными, причем одной и той же кратности.

$x = -1 + 2i$  – корень кратности 2  $\Rightarrow \bar{x} = -1 - 2i$  также корень кратности 2.

Следовательно, искомый многочлен может быть представлен в виде

$$\begin{aligned} M(x) &= (x - (-1 + 2i))^2 (x - (-1 - 2i))^2 = ((x - (-1 + 2i))(x - (-1 - 2i)))^2 = \\ &= ((x - (-1 + 2i))(x - (-1 - 2i)))^2 = ((x + 1 - 2i)(x + 1 + 2i))^2 = \\ &= ((x + 1)^2 - 4i^2)^2 = (x^2 + 2x + 1 - 4i^2)^2 = (x^2 + 2x + 1 + 4)^2 = (x^2 + 2x + 5)^2 = \\ &= x^4 + 4x^3 + 4x^2 + 10x^2 + 20x + 25 = x^4 + 4x^3 + 14x^2 + 20x + 25. \end{aligned}$$

## Список рекомендуемой литературы

1. Ильин В.А. Линейная алгебра [Текст]: учебник / В.А.Ильин, Э.Г.Позняк. –М.: Наука, 2014. – 280с.
2. Ильин В.А. Линейная алгебра [Текст]: учебник / В.А.Ильин, Э.Г.Позняк. –М.: Наука, 2014. – 280с.
3. Кострикин А. И. Введение в алгебру [Текст]: учебник. Ч. 1. Основы алгебры / А.И. Кострикин. – М., Наука, 2004, 272 с.
4. Кузнецов Л.А. Сборник заданий по высшей математике (типовые расчеты) [Текст]: – СПб: Лань, 2008. – 240 с.
5. Куликов Л.Я. Алгебра и теория чисел [Текст]: учеб. пособие / Л.Я. Куликов. – М.: Высшая школа, 2002. – 559 с.
6. Курош А.Г. Курс высшей алгебры [Текст]: учебник для вузов. / А.Г. Курош. – СПб.: Лань, –2011. – 432 с.
7. Милованов М.В. Алгебра и аналитическая геометрия [Текст]: учебник Ч. I. / М.В. Милованов. – Мн.: Амалфея, 2001. – 400 с.
8. Прасолов В.В. Многочлены [Текст] / В.В. Прасолов. – М.: МЦНМО, 2003. – 336 с.
9. Сборник задач по математике для втузов [Текст]: учебное пособие. Ч.1 / А.В. Ефимов, А.С. Поспелов. – М.: Физматлит, 2009. – 288с.
10. Табачников С.Л. Многочлены [Текст] / С.Л. Табачников. – М.: ФАЗИС, 2000. – 200 с.